


Uhrzeit ablesen - halbe Stunde




Wie viel Uhr ist es? Lies die beiden möglichen Uhrzeiten von der Uhr ab und schreibe diese auf.




1:30 Uhr

13:30 Uhr




Uhr

Uhr




Uhr

Uhr




Uhr

Uhr




Uhr

Uhr




Uhr

Uhr




Uhr

Uhr



Uhr

Uhr




Uhr

Uhr

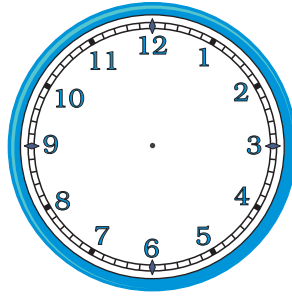
Uhrzeit eintragen - halbe Stunde



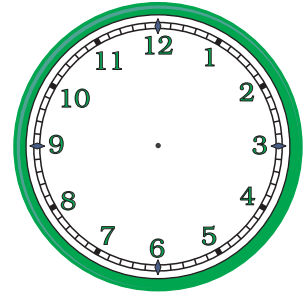
Trage die Zeiger in die Uhr richtig ein.



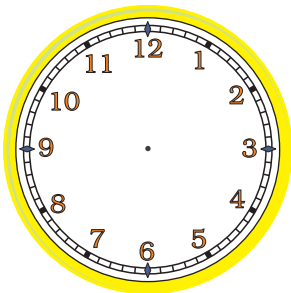
12:30 Uhr



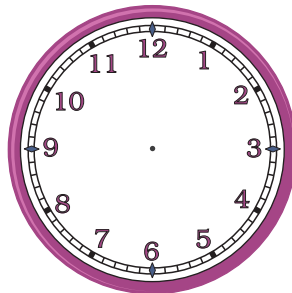
21:30 Uhr



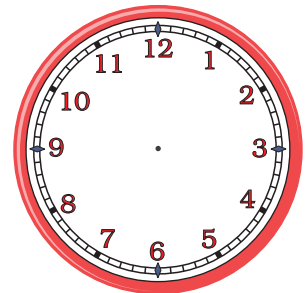
6:30 Uhr



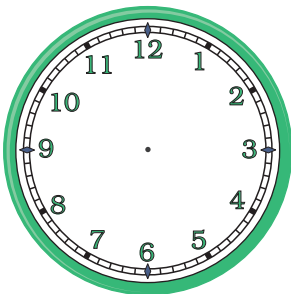
18:30 Uhr



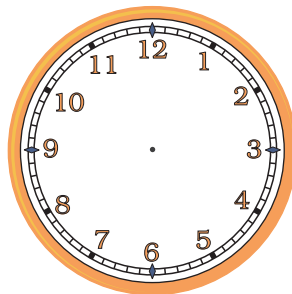
11:30 Uhr



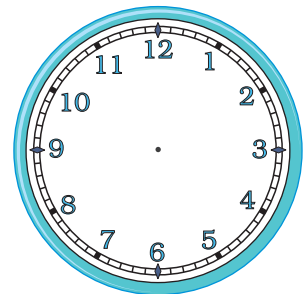
5:30 Uhr



23:30 Uhr



4:30 Uhr




13:30 Uhr

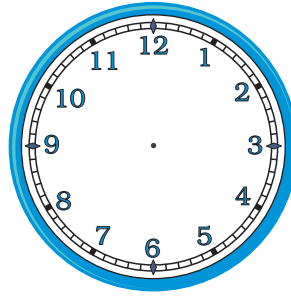
Uhrzeit eintragen - halbe Stunde



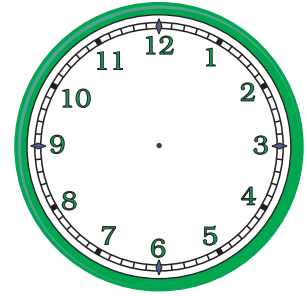
Trage die Zeiger in die Uhr richtig ein.



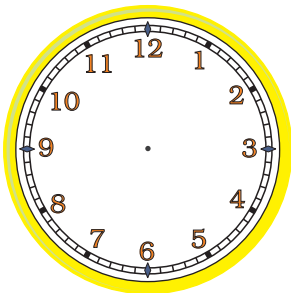
2:30 Uhr



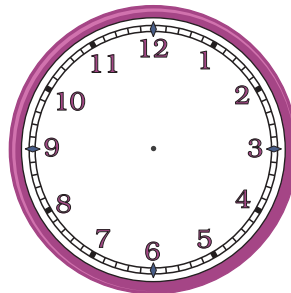
15:30 Uhr



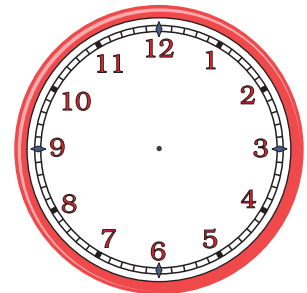
17:30 Uhr



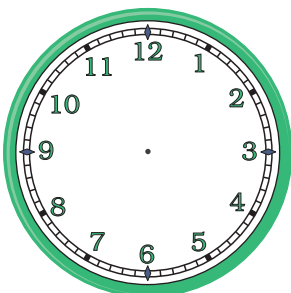
19:30 Uhr



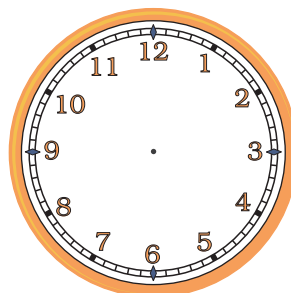
6:30 Uhr



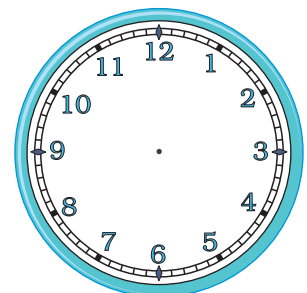
22:30 Uhr



9:30 Uhr



21:30 Uhr




3:30 Uhr

Uhrzeit ablesen - viertel Stunde

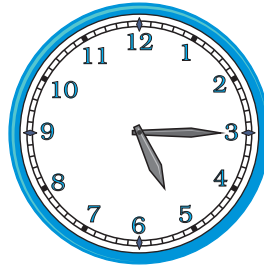


Wie viel Uhr ist es? Lies die beiden möglichen Uhrzeiten von der Uhr ab und schreibe diese auf.




11:45 Uhr

23:45 Uhr



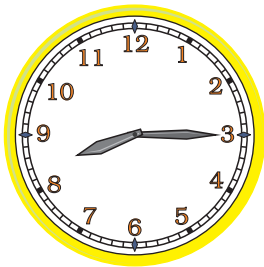
Uhr

Uhr




Uhr

Uhr




Uhr

Uhr



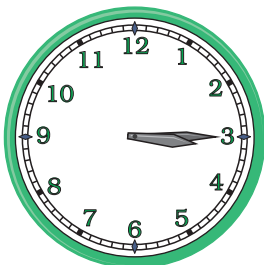
Uhr

Uhr




Uhr

Uhr




Uhr

Uhr



Uhr

Uhr




Uhr

Uhr

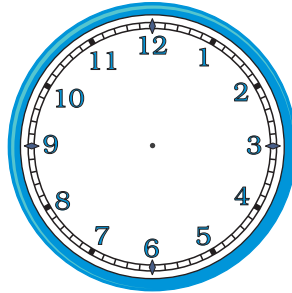
Uhrzeit eintragen - viertel Stunde



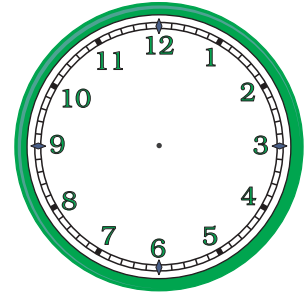
Trage die Zeiger in die Uhr richtig ein.



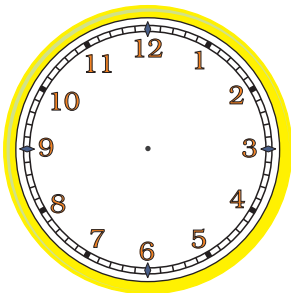
23:15 Uhr



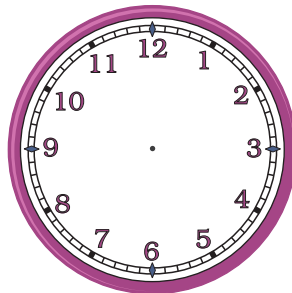
10:45 Uhr



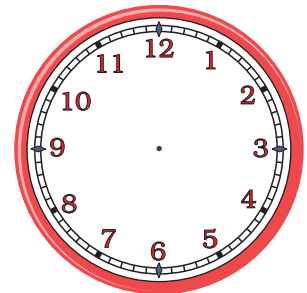
6:45 Uhr



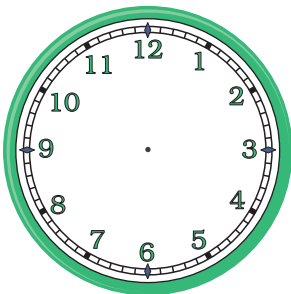
1:15 Uhr



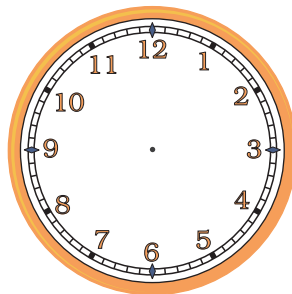
16:45 Uhr



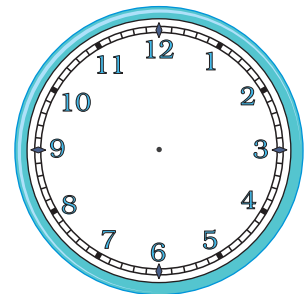
20:45 Uhr



21:15 Uhr



7:15 Uhr




15:45 Uhr

Uhrzeit ablesen - 5 Minuten

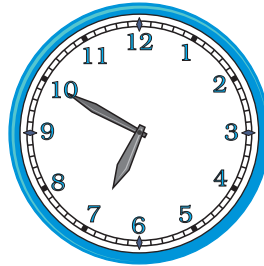


Wie viel Uhr ist es? Lies die beiden möglichen Uhrzeiten von der Uhr ab und schreibe diese auf.




9:05 Uhr

21:05 Uhr




Uhr

Uhr




Uhr

Uhr




Uhr

Uhr




Uhr

Uhr




Uhr

Uhr




Uhr

Uhr



Uhr

Uhr



Uhr

Uhr



Uhrzeit erkennen - 5 Minuten



Verbinde die passenden Angaben mit einer Linie.

6:30 Uhr

fünf nach halb sieben

7:10 Uhr

zehn vor sieben

18:50 Uhr

fünf vor sechs

5:45 Uhr

halb sieben

19:05 Uhr

zwanzig nach sechs

6:35 Uhr

zehn nach sieben

5:55 Uhr

fünf vor halb sieben

18:25 Uhr

Viertel vor sechs

7:15 Uhr

fünf nach sieben


18:20 Uhr

Viertel nach sieben

Uhrzeit ablesen - halbe Stunde




Wie viel Uhr ist es? Lies die beiden möglichen Uhrzeiten von der Uhr ab und schreibe diese auf.




1:30 Uhr

13:30 Uhr




7:30 Uhr

19:30 Uhr




4:30 Uhr

16:30 Uhr




9:30 Uhr

21:30 Uhr




2:30 Uhr

14:30 Uhr




11:30 Uhr

23:30 Uhr




6:30 Uhr

16:00 Uhr



10:30 Uhr

23:00 Uhr




8:30 Uhr

21:00 Uhr


Uhrzeit eintragen - halbe Stunde




Trage die Zeiger in die Uhr richtig ein.




12:30 Uhr




21:30 Uhr



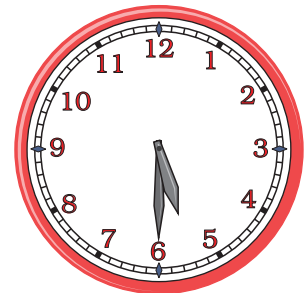
6:30 Uhr




18:30 Uhr




11:30 Uhr



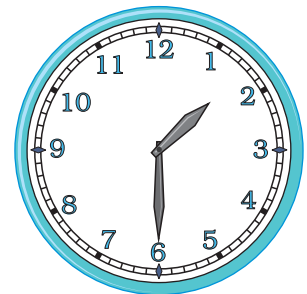
5:30 Uhr



23:30 Uhr



4:30 Uhr




13:30 Uhr


Uhrzeit eintragen - halbe Stunde




Trage die Zeiger in die Uhr richtig ein.




2:30 Uhr




15:30 Uhr



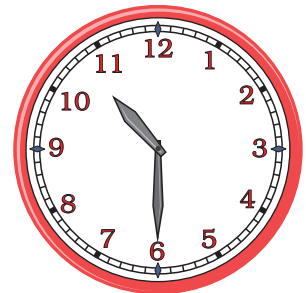
17:30 Uhr



19:30 Uhr




6:30 Uhr



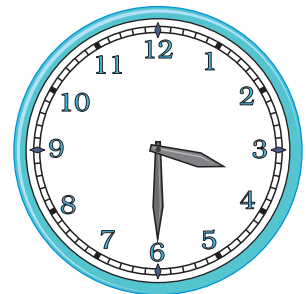
22:30 Uhr



9:30 Uhr



21:30 Uhr




3:30 Uhr

Uhrzeit ablesen - viertel Stunde

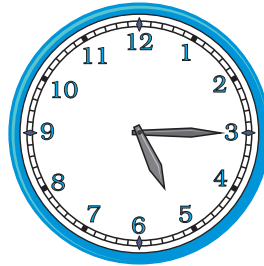


Wie viel Uhr ist es? Lies die beiden möglichen Uhrzeiten von der Uhr ab und schreibe diese auf.




11:45 Uhr

23:45 Uhr



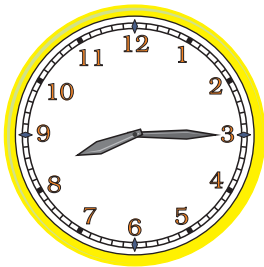
5:15 Uhr

17:15 Uhr




7:45 Uhr

19:45 Uhr




8:15 Uhr

20:15 Uhr



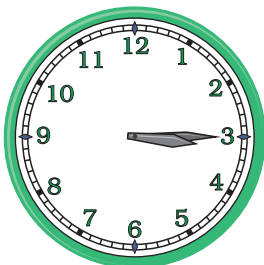
2:45 Uhr

14:45 Uhr




10:15 Uhr

22:15 Uhr




3:15 Uhr

15:15 Uhr



6:15 Uhr

18:15 Uhr




1:45 Uhr

13:45 Uhr


Uhrzeit eintragen - viertel Stunde




Trage die Zeiger in die Uhr richtig ein.




23:15 Uhr




10:45 Uhr



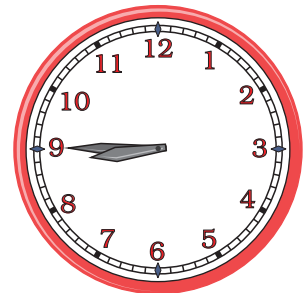
6:45 Uhr




1:15 Uhr




16:45 Uhr



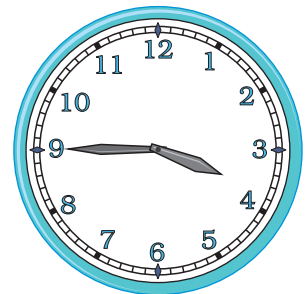
20:45 Uhr



21:15 Uhr



7:15 Uhr




15:45 Uhr

Uhrzeit ablesen - 5 Minuten

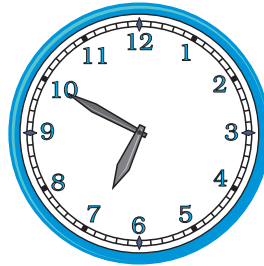


Wie viel Uhr ist es? Lies die beiden möglichen Uhrzeiten von der Uhr ab und schreibe diese auf.




9:05 Uhr

21:05 Uhr




6:50 Uhr

18:50 Uhr




4:20 Uhr

16:20 Uhr




10:10 Uhr

22:10 Uhr




6:35 Uhr

18:35 Uhr




11:40 Uhr

23:40 Uhr




3:25 Uhr

15:25 Uhr



2:35 Uhr

14:35 Uhr



7:10 Uhr

19:10 Uhr



Uhrzeit erkennen - 5 Minuten



Verbinde die passenden Angaben mit einer Linie.

6:30 Uhr		fünf nach halb sieben
7:10 Uhr		zehn vor sieben
18:50 Uhr		fünf vor sechs
5:45 Uhr		halb sieben
19:05 Uhr		zwanzig nach sechs
6:35 Uhr		zehn nach sieben
5:55 Uhr		fünf vor halb sieben
18:25 Uhr		Viertel vor sechs
7:15 Uhr		fünf nach sieben
18:20 Uhr		Viertel nach sieben