

## Rechnen mit Uhrzeiten




Rechne die Minuten hinzu. Wie spät ist es?

Es ist .... Uhr morgens.



10 Minuten später

Uhr




25 Minuten später

Uhr




5 Minuten später

Uhr




50 Minuten später

Uhr



30 Minuten später

Uhr




15 Minuten später

Uhr


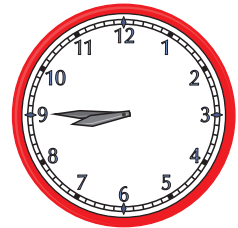
## Rechnen mit Uhrzeiten





Schreibe in das Kästchen, wie viele Minuten vergangen sind.





Minuten





Minuten





Minuten




Minuten



Minuten



Minuten



## Rechnen mit Uhrzeiten




Wie lange dauert es bis zur nächsten Stunde?

**Anfang**

**Dauer**


**Ende**



Minuten



**6:00** Uhr



Minuten




**22:00** Uhr



Minuten




**3:00** Uhr



Minuten




**7:00** Uhr



Minuten



**16:00** Uhr



Minuten



**9:00** Uhr

## Rechnen mit Uhrzeiten



Berechne die Uhrzeiten. Wie spät ist es?



Jetzt ist es 4:30 Uhr. Wie spät ist es?

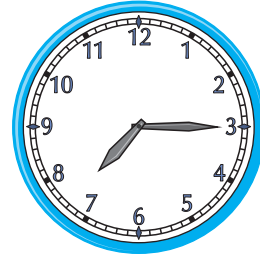
2 Stunden später: **6:30** Uhr

3 Stunden früher: \_\_\_\_\_ Uhr

15 Minuten früher: \_\_\_\_\_ Uhr

5 Minuten früher: \_\_\_\_\_ Uhr

10 Minuten später: \_\_\_\_\_ Uhr



Jetzt ist es 19:15 Uhr. Wie spät ist es?


7 Stunden früher: \_\_\_\_\_ Uhr

2 Stunden später: \_\_\_\_\_ Uhr

30 Minuten später: \_\_\_\_\_ Uhr

15 Minuten früher: \_\_\_\_\_ Uhr

20 Minuten später: \_\_\_\_\_ Uhr



Jetzt ist es 10:10 Uhr. Wie spät ist es?


1 Stunden später: \_\_\_\_\_ Uhr

10 Minuten früher: \_\_\_\_\_ Uhr

5 Minuten früher: \_\_\_\_\_ Uhr

20 Minuten später: \_\_\_\_\_ Uhr

35 Minuten später: \_\_\_\_\_ Uhr



Jetzt ist es 20:25 Uhr. Wie spät ist es?

3 Stunden früher: \_\_\_\_\_ Uhr

20 Minuten später: \_\_\_\_\_ Uhr

20 Minuten früher: \_\_\_\_\_ Uhr

10 Minuten früher: \_\_\_\_\_ Uhr

5 Minuten später: \_\_\_\_\_ Uhr



## Rechnen mit Uhrzeiten



Wie viele Minuten sind vergangen?

<b>Anfang</b>	11:20 Uhr	6:30 Uhr	7:10 Uhr	12:05 Uhr	21:15 Uhr
<b>Dauer</b>	<b>30 min</b>				
<b>Ende</b>	11:50 Uhr	6:45 Uhr	7:35 Uhr	12:45 Uhr	21:50 Uhr

Trage die Endzeit ein.

<b>Anfang</b>	8:15 Uhr	20:05 Uhr	10:45 Uhr	17:25 Uhr	12:10 Uhr
<b>Dauer</b>	15 min	35 min	5 min	30 min	40 min
<b>Ende</b>	<b>8:30 Uhr</b>				

Berechne die Anfangszeit.

<b>Anfang</b>	<b>16:10 Uhr</b>				
<b>Dauer</b>	35 min	20 min	5 min	45 min	20 min
<b>Ende</b>	16:45 Uhr	3:50 Uhr	13:30 Uhr	15:50 Uhr	9:00 Uhr

Trage die Endzeit ein.

Maria ging um 9:05 Uhr einkaufen und war 50 Minuten später zu Hause.

Die Vorlesung beginnt um 10:05 Uhr und dauert 45 Minuten.

Anna hat Tina um 12:15 Uhr besucht und ist 45 Minuten geblieben.

Kevin braucht 25 Minuten zur Schule, wenn er um 7:35 Uhr losfährt.

Lina war um 19:20 Uhr vor dem Theater und hat 25 Minuten auf Nina gewartet.

### Rechnen mit Uhrzeiten




Rechne die Minuten hinzu. Wie spät ist es?

Es ist .... Uhr morgens.



10 Minuten später

**6:20** Uhr



25 Minuten später

**9:45** Uhr




5 Minuten später

**1:50** Uhr




50 Minuten später

**7:55** Uhr



30 Minuten später

**4:00** Uhr



15 Minuten später

**11:45** Uhr


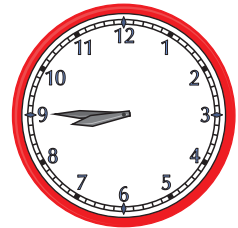
### Rechnen mit Uhrzeiten




Schreibe in das Kästchen, wie viele Minuten vergangen sind.





15 Minuten





10 Minuten





20 Minuten



5 Minuten



40 Minuten



55 Minuten



### Rechnen mit Uhrzeiten




Wie lange dauert es bis zur nächsten Stunde?

Anfang

Dauer


Ende



**20** Minuten




**6:00** Uhr



**45** Minuten




**22:00** Uhr



**15** Minuten




**3:00** Uhr



**50** Minuten



**7:00** Uhr



**35** Minuten



**16:00** Uhr



**10** Minuten




**9:00** Uhr

### Rechnen mit Uhrzeiten



Berechne die Uhrzeiten. Wie spät ist es?



Jetzt ist es 4:30 Uhr. Wie spät ist es?

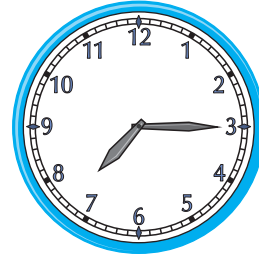
2 Stunden später: 6:30 Uhr

3 Stunden früher: 1:30 Uhr

15 Minuten früher: 4:15 Uhr

5 Minuten früher: 4:25 Uhr

10 Minuten später: 4:40 Uhr



Jetzt ist es 19:15 Uhr. Wie spät ist es?

7 Stunden früher: 12:15 Uhr

2 Stunden später: 9:15 Uhr

30 Minuten später: 19:45 Uhr

15 Minuten früher: 19:00 Uhr

20 Minuten später: 19:35 Uhr



Jetzt ist es 10:10 Uhr. Wie spät ist es?


1 Stunden später: 11:10 Uhr

10 Minuten früher: 10:00 Uhr

5 Minuten früher: 10:05 Uhr

20 Minuten später: 10:30 Uhr

35 Minuten später: 10:45 Uhr



Jetzt ist es 20:25 Uhr. Wie spät ist es?

3 Stunden früher: 17:25 Uhr

20 Minuten später: 20:45 Uhr

20 Minuten früher: 20:05 Uhr

10 Minuten früher: 20:15 Uhr

5 Minuten später: 20:30 Uhr



### Rechnen mit Uhrzeiten



Wie viele Minuten sind vergangen?

<b>Anfang</b>	11:20 Uhr	6:30 Uhr	7:10 Uhr	12:05 Uhr	21:15 Uhr
<b>Dauer</b>	<b>30 min</b>	<b>15 min</b>	<b>25 min</b>	<b>40 min</b>	<b>35 min</b>
<b>Ende</b>	11:50 Uhr	6:45 Uhr	7:35 Uhr	12:45 Uhr	21:50 Uhr

Trage die Endzeit ein.

<b>Anfang</b>	8:15 Uhr	20:05 Uhr	10:45 Uhr	17:25 Uhr	12:10 Uhr
<b>Dauer</b>	15 min	35 min	5 min	30 min	40 min
<b>Ende</b>	<b>8:30 Uhr</b>	<b>20:40 Uhr</b>	<b>10:50 Uhr</b>	<b>17:55 Uhr</b>	<b>12:50 Uhr</b>

Berechne die Anfangszeit.

<b>Anfang</b>	<b>16:10 Uhr</b>	<b>3:30 Uhr</b>	<b>13:25 Uhr</b>	<b>15:05 Uhr</b>	<b>8:40 Uhr</b>
<b>Dauer</b>	35 min	20 min	5 min	45 min	20 min
<b>Ende</b>	16:45 Uhr	3:50 Uhr	13:30 Uhr	15:50 Uhr	9:00 Uhr

Trage die Endzeit ein.

Maria ging um 9:05 Uhr einkaufen und war 50 Minuten später zu Hause.

**9:55 Uhr**

Die Vorlesung beginnt um 10:05 Uhr und dauert 45 Minuten.

**10:50 Uhr**

Anna hat Tina um 12:15 Uhr besucht und ist 45 Minuten geblieben.

**16:00 Uhr**

Kevin braucht 25 Minuten zur Schule, wenn er um 7:35 Uhr losfährt.

**8:00 Uhr**

Lina war um 19:20 Uhr vor dem Theater und hat 25 Minuten auf Nina gewartet.

**19:45 Uhr**