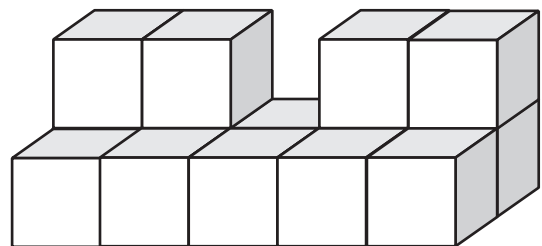
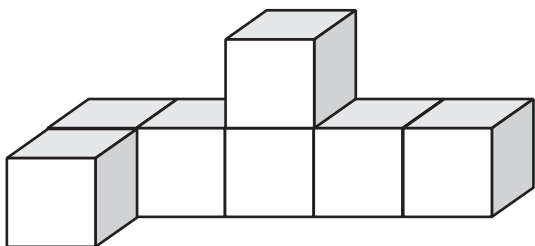
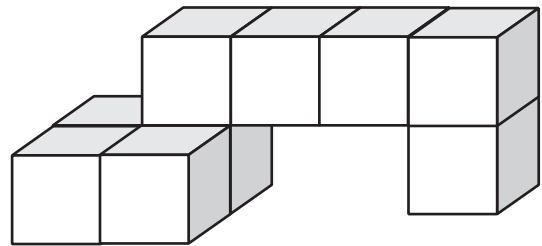
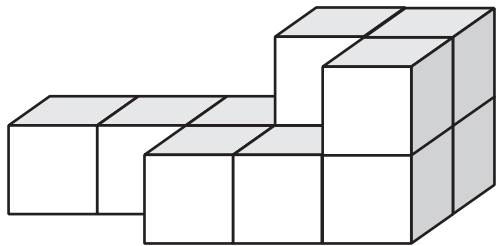
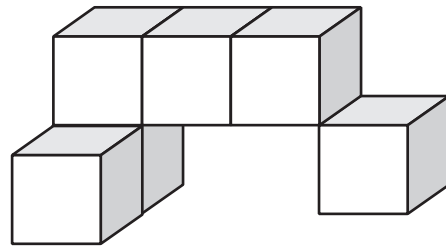
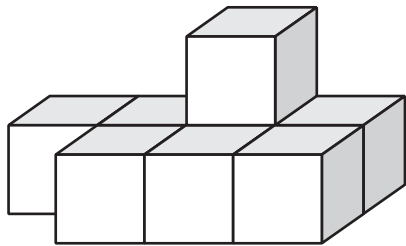




Würfelgebäude

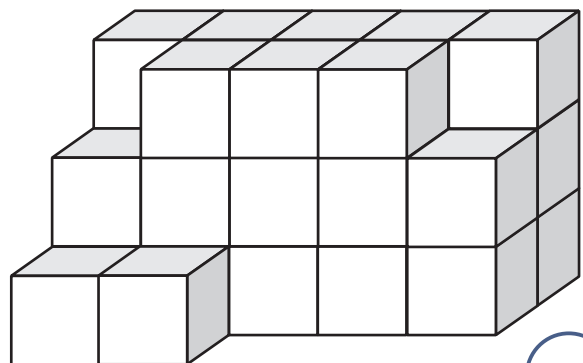
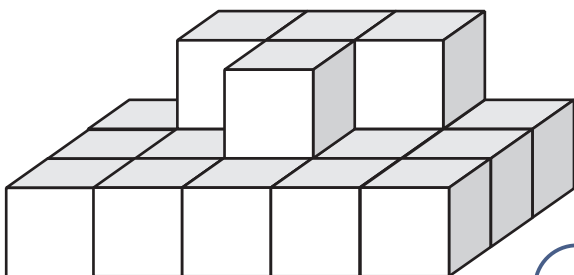
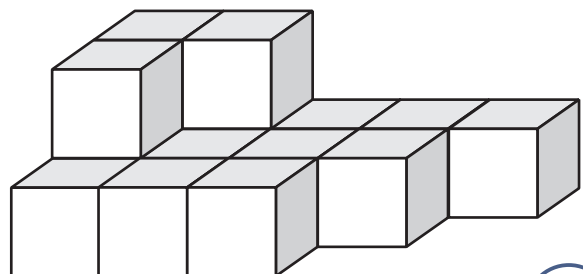
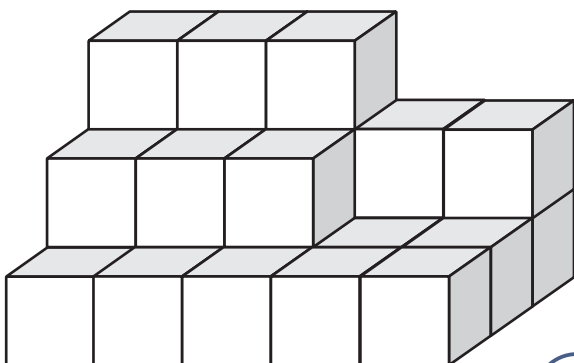
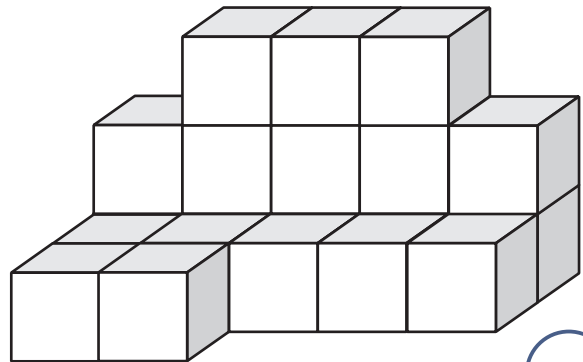
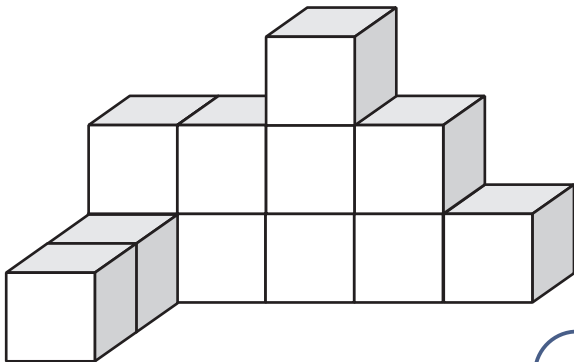
Aus wie vielen Würfeln besteht dieses Bauwerk?





Würfelgebäude

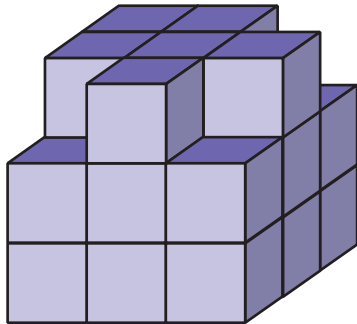
Aus wie vielen Würfeln besteht dieses Bauwerk?



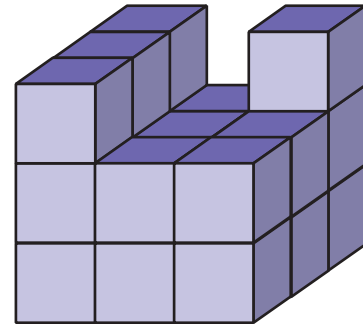


Würfelgebäude

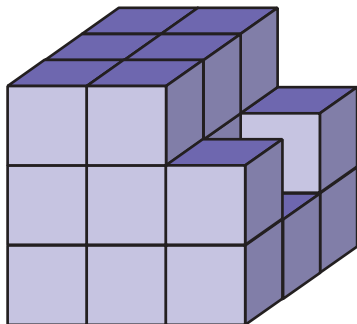
Ein großer Würfel wird aus 27 kleinen zusammengesetzt.
Wie viele kleine Würfel fehlen zum großen Würfel?



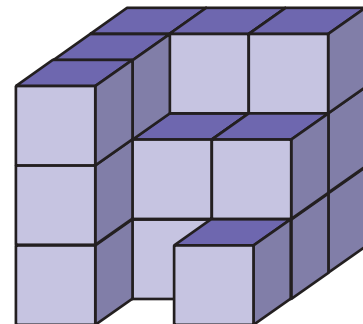
Es fehlen _____ Würfel



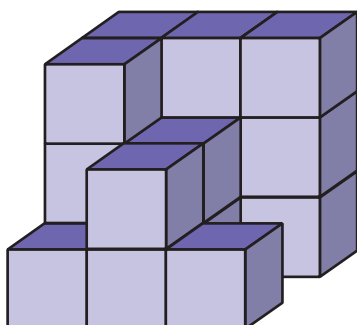
Es fehlen _____ Würfel



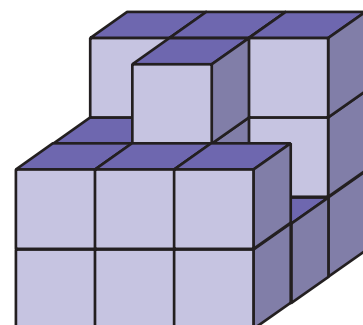
Es fehlen _____ Würfel



Es fehlen _____ Würfel



Es fehlen _____ Würfel

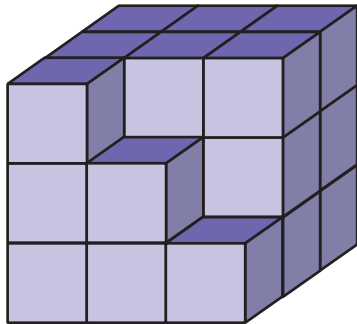


Es fehlen _____ Würfel

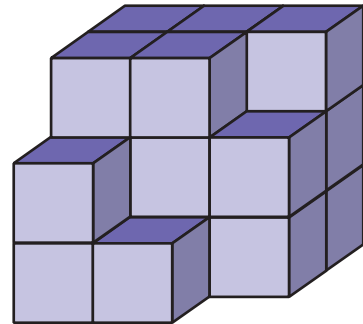


Würfelgebäude

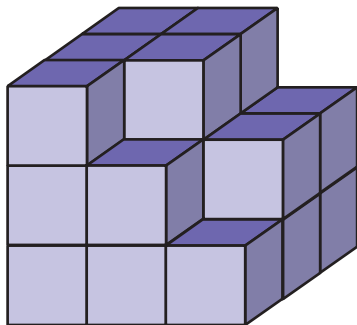
Ein großer Würfel wird aus 27 kleinen zusammengesetzt.
Wie viele kleine Würfel fehlen zum großen Würfel?



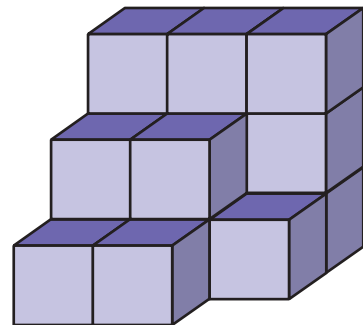
Es fehlen _____ Würfel



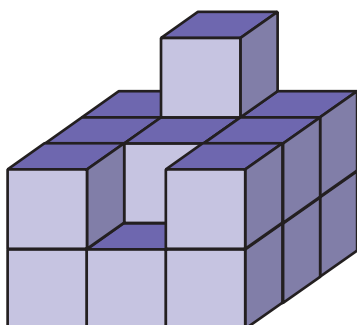
Es fehlen _____ Würfel



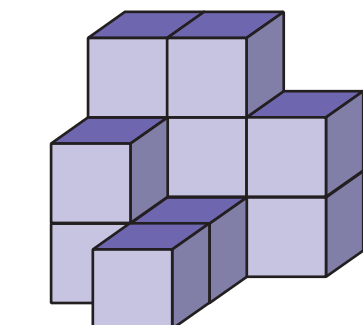
Es fehlen _____ Würfel



Es fehlen _____ Würfel



Es fehlen _____ Würfel

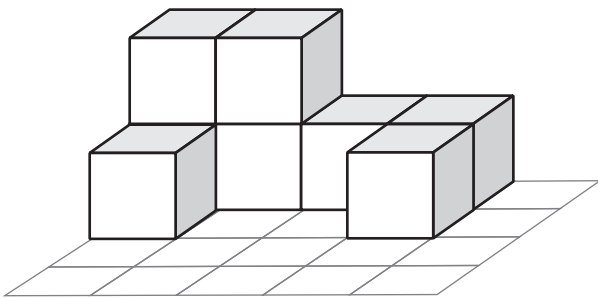


Es fehlen _____ Würfel



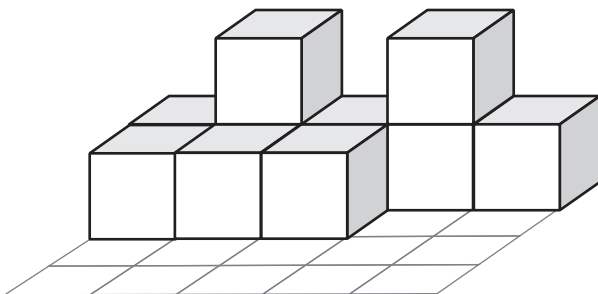
Würfelgebäude und der zugehörige Bauplan

Sieh dir das Würfelgebäude genau an. Auf dem Bauplan ist das Gebäude von oben zu sehen. Trage in den Bauplan ein, wie viele Würfel auf jeder Position übereinander stehen. Trage dann die Anzahl der Würfel im Gebäude ein.



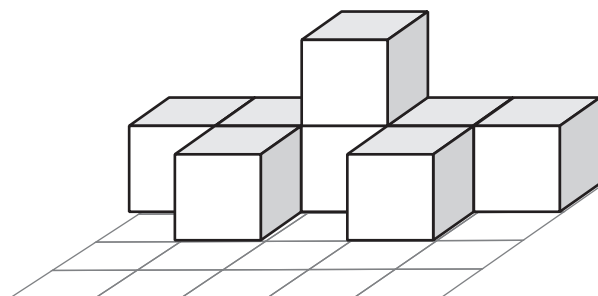
2	2	1	
.....			

Anzahl der Würfel: ___



.....
.....		

Anzahl der Würfel: ___

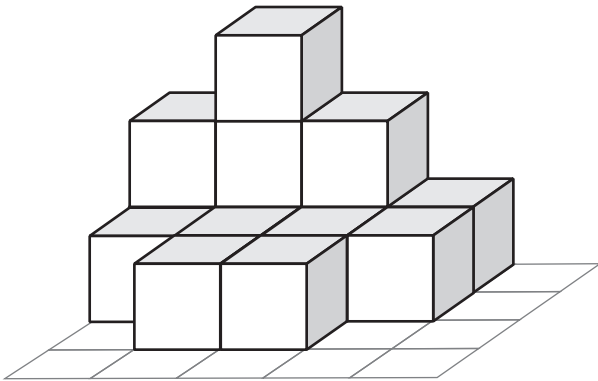


Anzahl der Würfel: ___



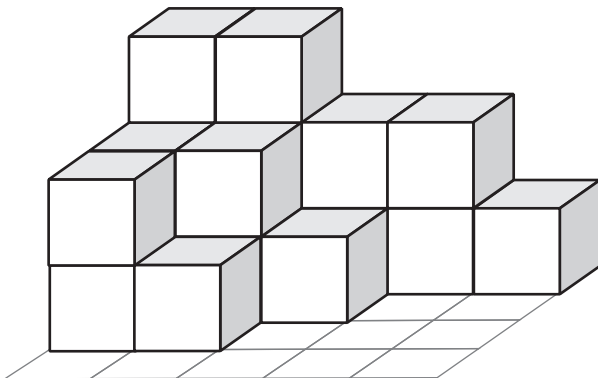
Würfelgebäude und der zugehörige Bauplan

Sieh dir das Würfelgebäude genau an. Auf dem Bauplan ist das Gebäude von oben zu sehen. Trage in den Bauplan ein, wie viele Würfel auf jeder Position übereinander stehen. Trage dann die Anzahl der Würfel im Gebäude ein.



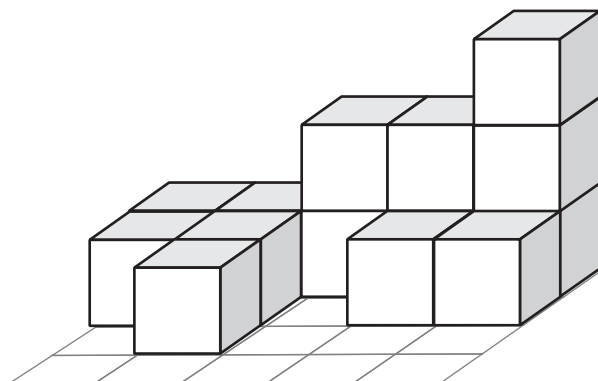
2	3	2	
.....	
		

Anzahl der Würfel: ____



.....
.....		
.....			

Anzahl der Würfel: ____


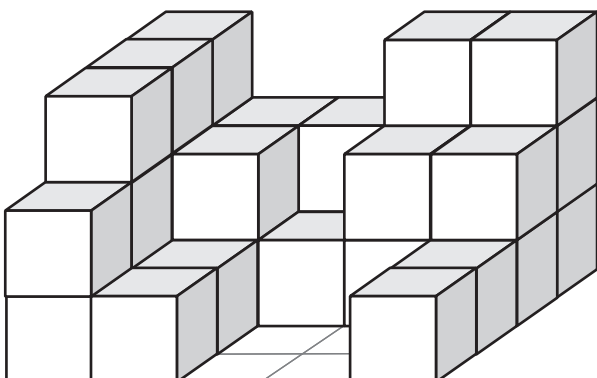

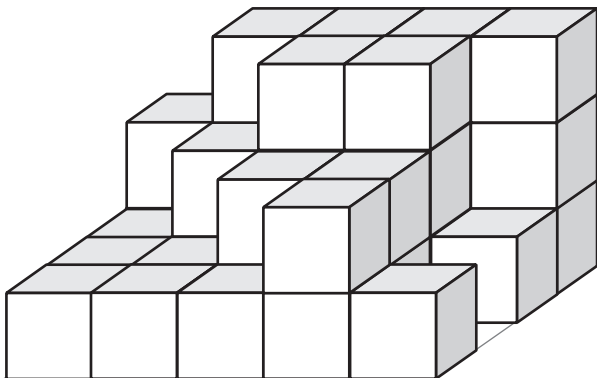

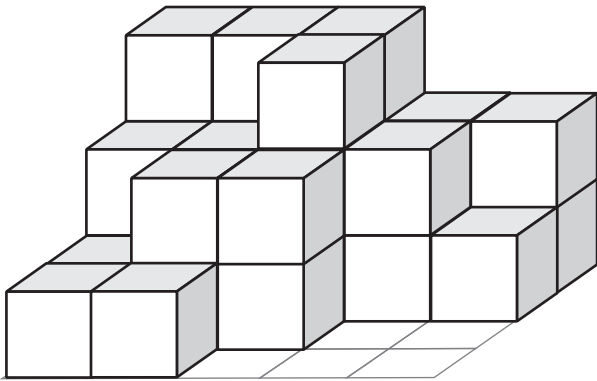


Anzahl der Würfel: ____



Würfelgebäude und der zugehörige Bauplan

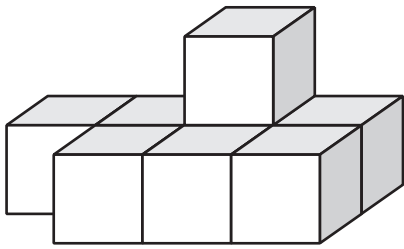
Sieh dir das Würfelgebäude genau an. Auf dem Bauplan ist das Gebäude von oben zu sehen. Trage in den Bauplan ein, wie viele Würfel auf jeder Position übereinander stehen.



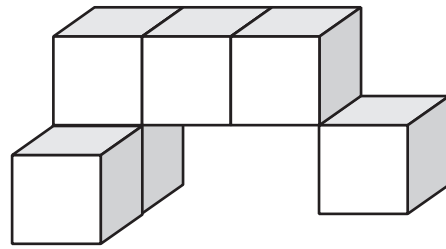


Würfelgebäude

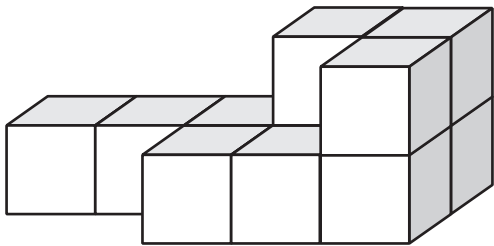
Aus wie vielen Würfeln besteht dieses Bauwerk?



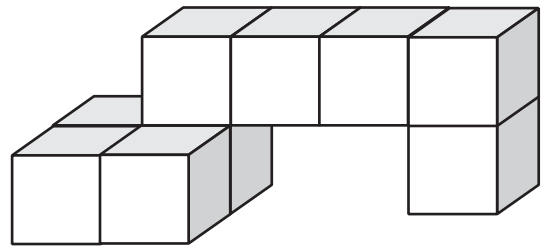
8



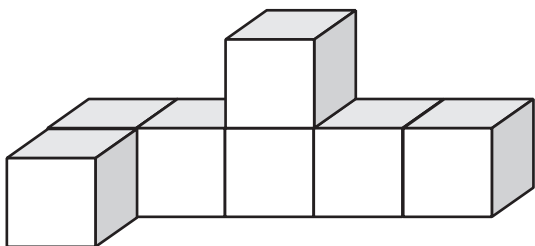
6



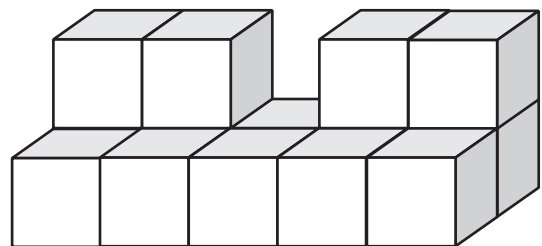
11



9



7

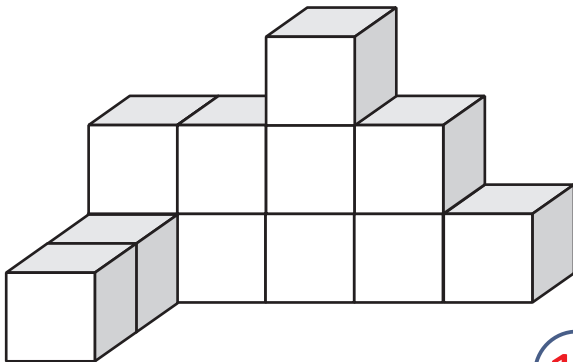


14

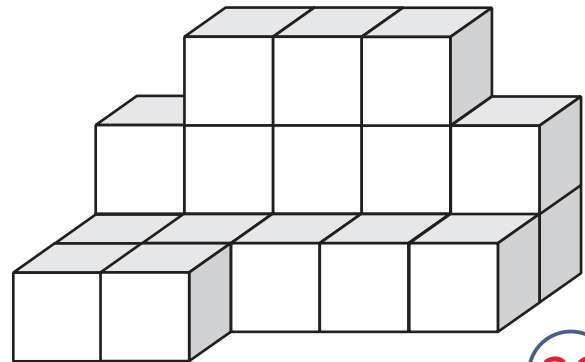


Würfelgebäude

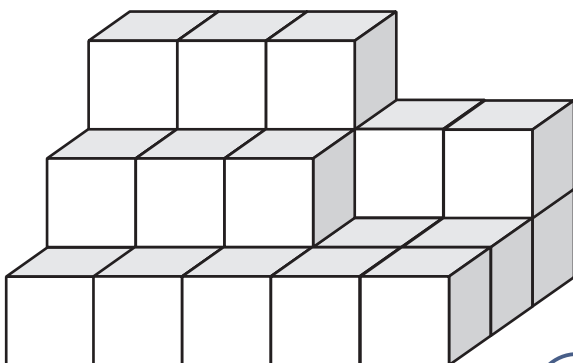
Aus wie vielen Würfeln besteht dieses Bauwerk?



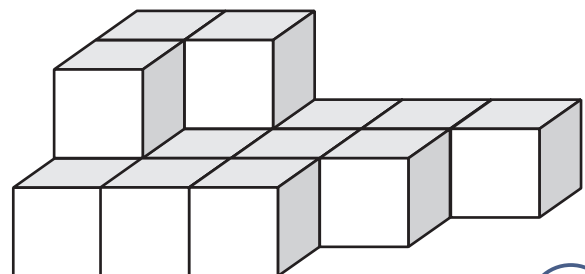
12



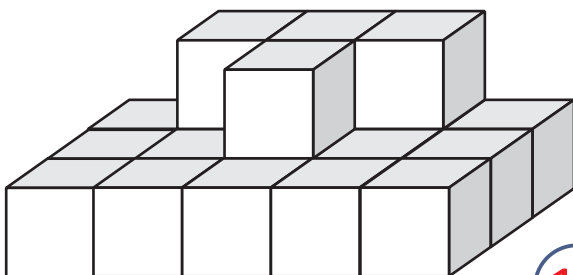
20



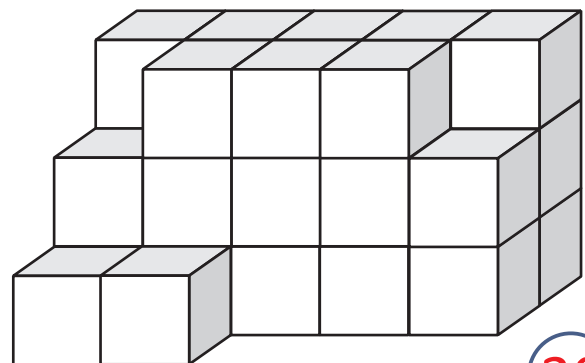
26



15



19

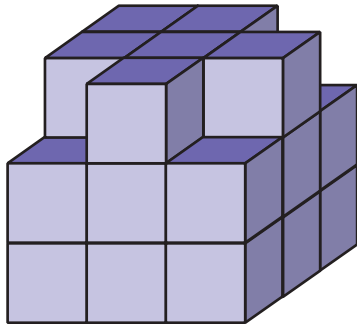


30

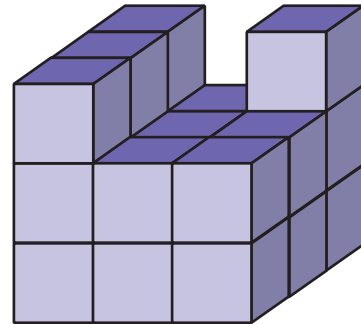


Würfelgebäude

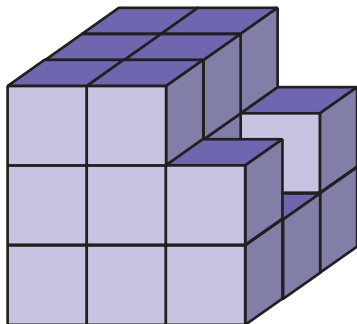
Ein großer Würfel wird aus 27 kleinen zusammengesetzt.
Wie viele kleine Würfel fehlen zum großen Würfel?



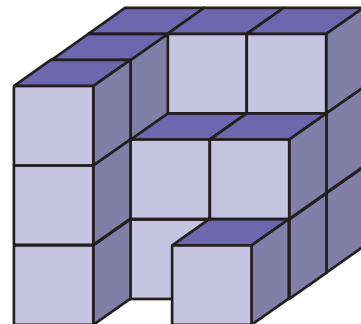
Es fehlen 3 Würfel



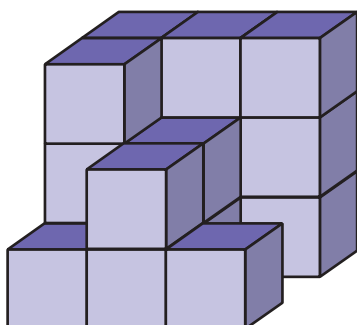
Es fehlen 5 Würfel



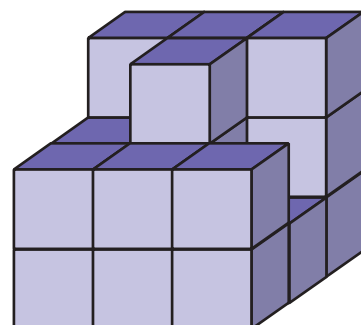
Es fehlen 4 Würfel



Es fehlen 7 Würfel



Es fehlen 9 Würfel

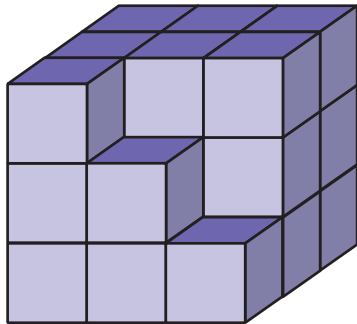


Es fehlen 6 Würfel

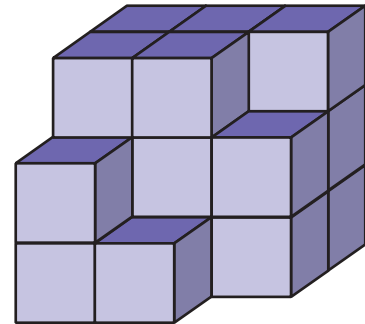


Würfelgebäude

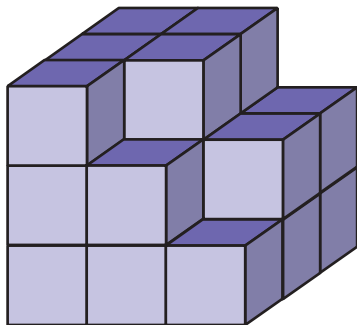
Ein großer Würfel wird aus 27 kleinen zusammengesetzt.
Wie viele kleine Würfel fehlen zum großen Würfel?



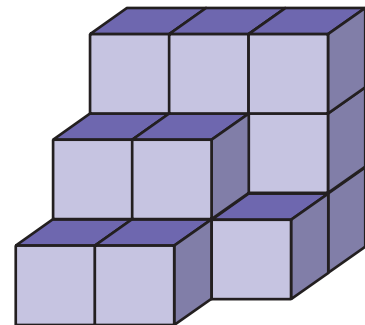
Es fehlen 3 Würfel



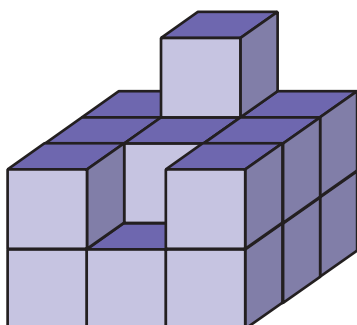
Es fehlen 7 Würfel



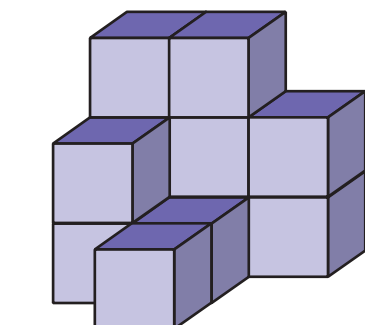
Es fehlen 5 Würfel



Es fehlen 11 Würfel



Es fehlen 9 Würfel

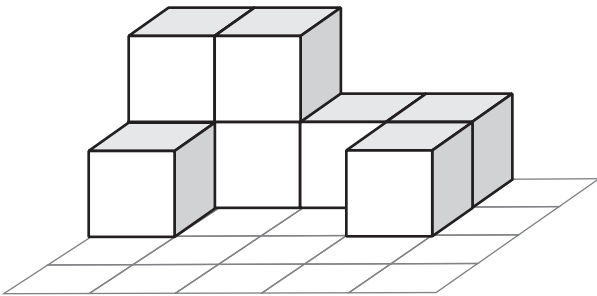


Es fehlen 15 Würfel



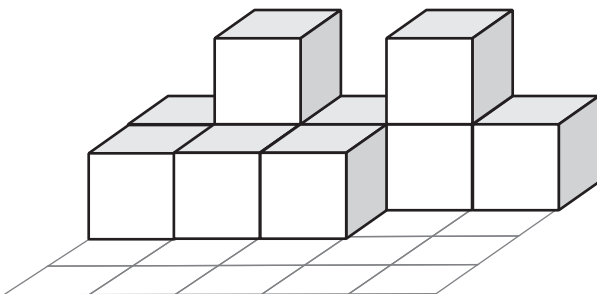
Würfelgebäude und der zugehörige Bauplan

Sieh dir das Würfelgebäude genau an. Auf dem Bauplan ist das Gebäude von oben zu sehen. Trage in den Bauplan ein, wie viele Würfel auf jeder Position übereinander stehen. Trage dann die Anzahl der Würfel im Gebäude ein.



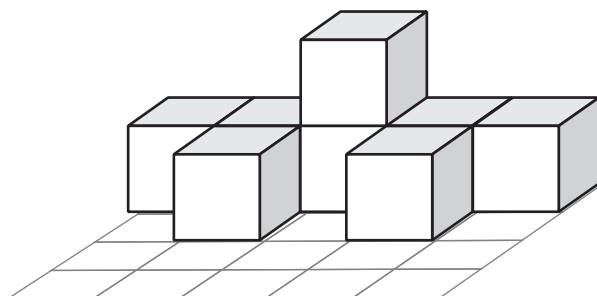
2	2	1	1	
1			1	

Anzahl der Würfel: 8



1	2	1	2	1
1	1	1		

Anzahl der Würfel: 10



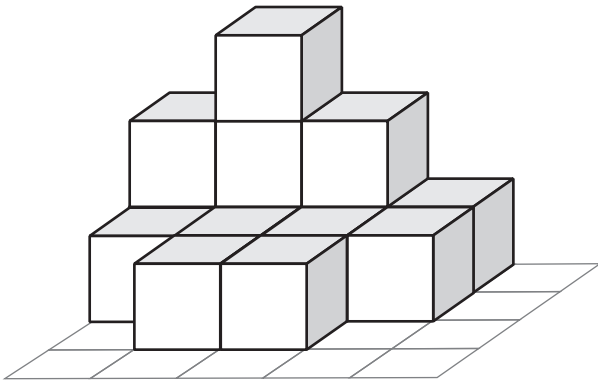
1	1	2	1	1
	1		1	

Anzahl der Würfel: 8



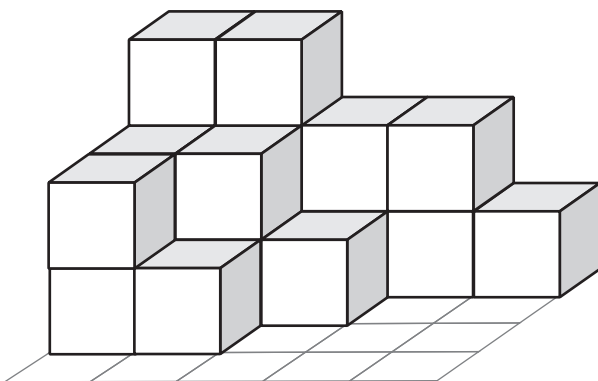
Würfelgebäude und der zugehörige Bauplan

Sieh dir das Würfelgebäude genau an. Auf dem Bauplan ist das Gebäude von oben zu sehen. Trage in den Bauplan ein, wie viele Würfel auf jeder Position übereinander stehen. Trage dann die Anzahl der Würfel im Gebäude ein.



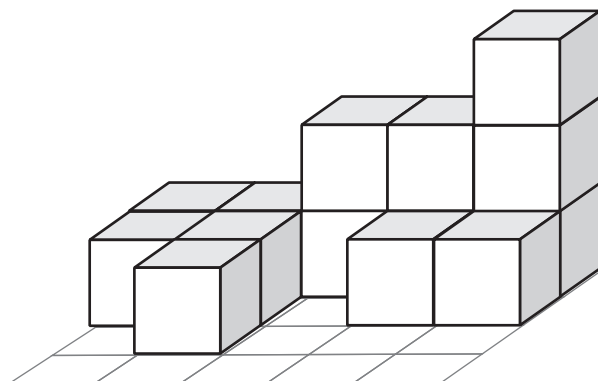
2	3	2	1	
1	1	1	1	
	1	1		

Anzahl der Würfel: 14



3	3	2	2	1
2	2	1		
2	1			

Anzahl der Würfel: 19



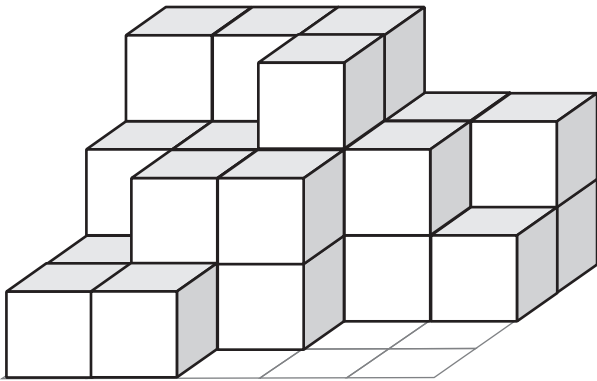
1	1	2	2	3
1	1		1	1
	1			

Anzahl der Würfel: 14

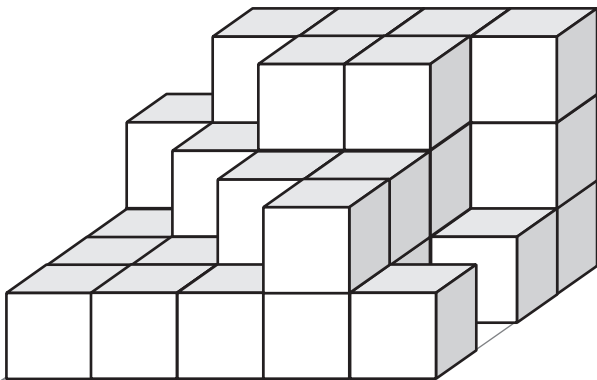


Würfelgebäude und der zugehörige Bauplan

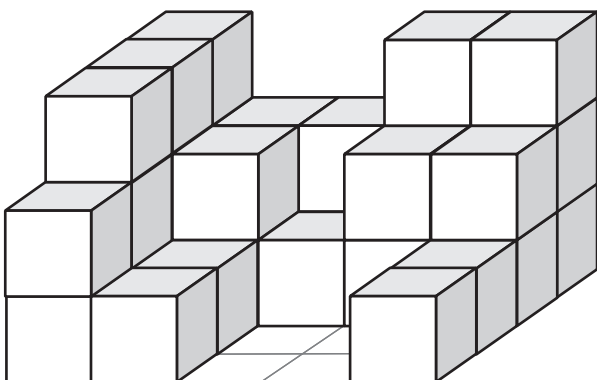
Sieh dir das Würfelgebäude genau an. Auf dem Bauplan ist das Gebäude von oben zu sehen. Trage in den Bauplan ein, wie viele Würfel auf jeder Position übereinander stehen.



3	3	3	2	2
2	2	3	2	1
1	2	2		
1	1			



2	3	3	3	3
1	2	3	3	1
1	1	2	2	
1	1	1	2	1



3	2	2	3	3
3	2	1	2	2
3	1			1
2	1			1