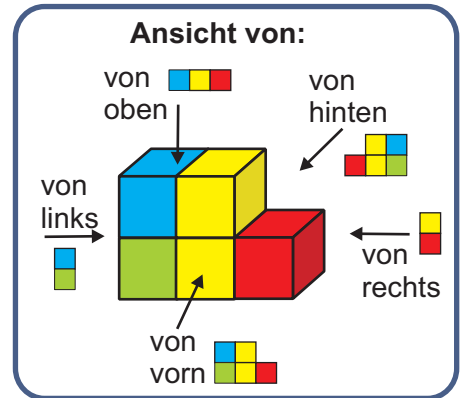




Ansichten zeichnen

Was sehen die Kinder? Male die Kästchen passend an!

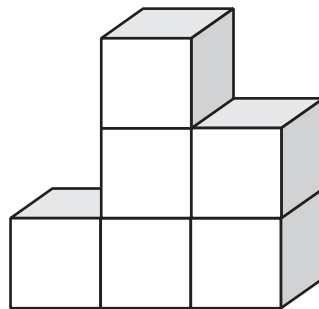


Theo (Ansicht von hinten)



Anna

(Ansicht von links)




Diana

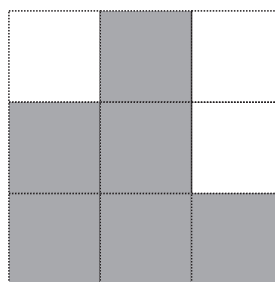
(Ansicht von rechts)




Monika (Ansicht von vorn)




Anna (von links)



Theo (von hinten)



Monika (von vorne)

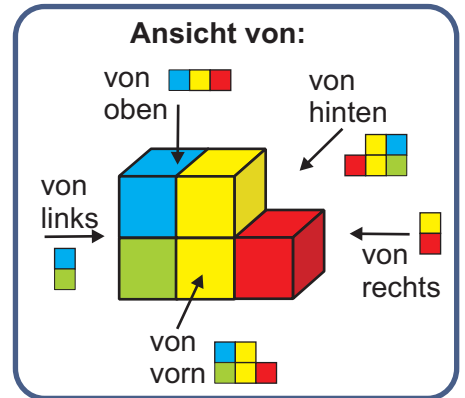


Diana (von rechts)



Ansichten zeichnen

Was sehen die Kinder? Male die Kästchen passend an!

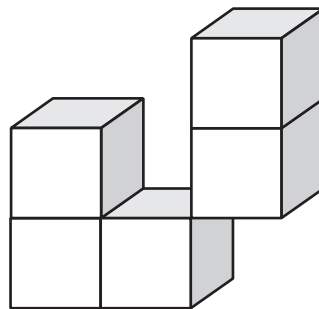


Theo (Ansicht von hinten)



Anna

(Ansicht von links)



Diana

(Ansicht von rechts)



Monika (Ansicht von vorn)

Anna (von links)

Theo (von hinten)




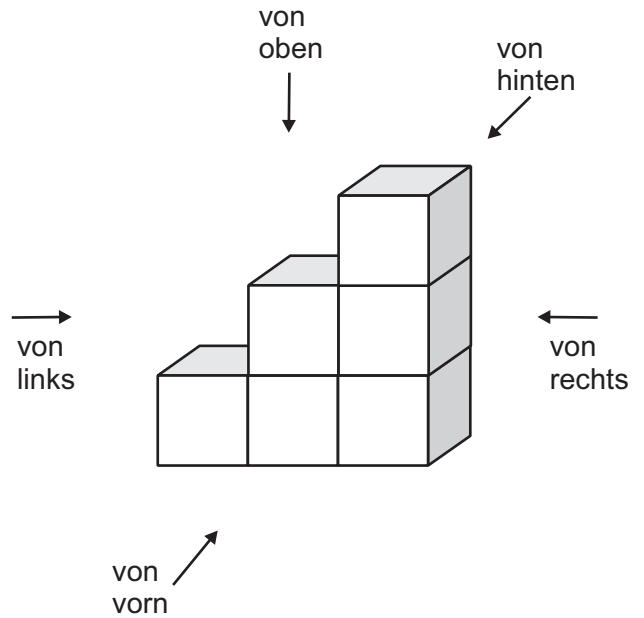
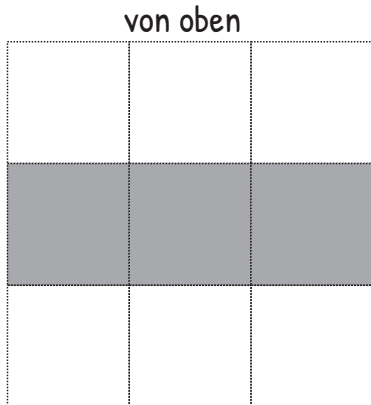
Monika (von vorne)

Diana (von rechts)



Ansichten zeichnen

Zeichne die Seitenansichten!





Ansichten zeichnen

Zeichne die Seitenansichten!

von oben

von links

von vorn

von oben

von hinten

von rechts

von oben

von vorne

von hinten

von links

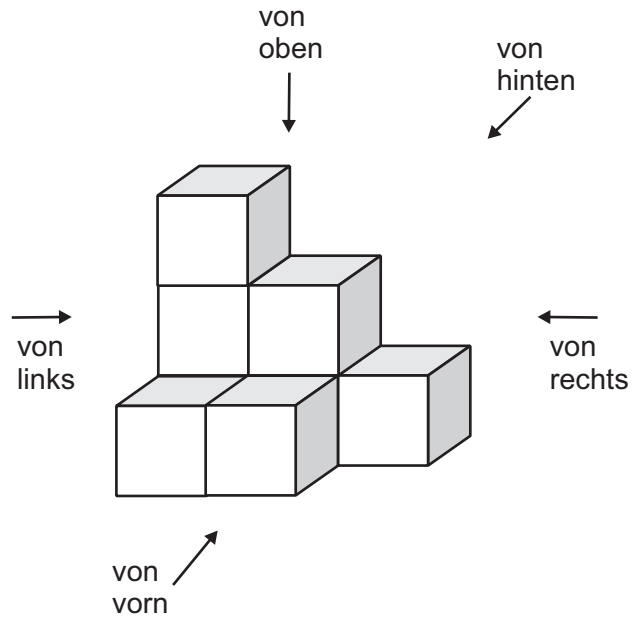
von rechts



Ansichten zeichnen

Zeichne die Seitenansichten!

von oben



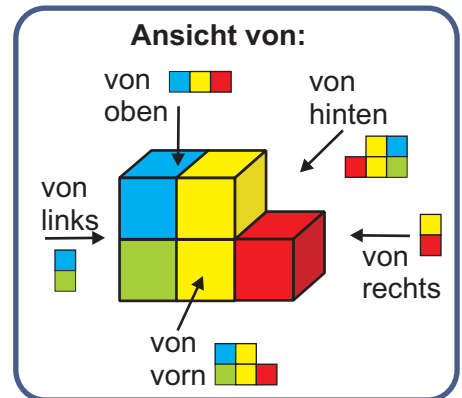
von vorne

von hinten

von links

von rechts

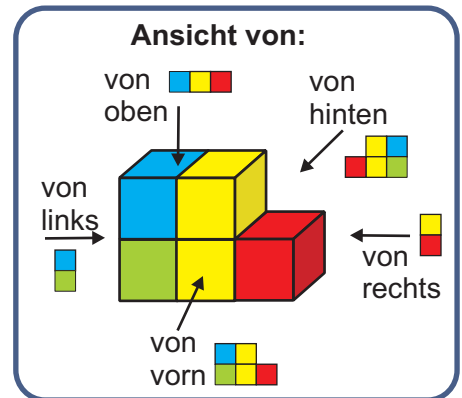
Würfelgebäude



Wie sieht das Würfelgebäude aus verschiedenen Richtungen aus?
Welche Ansichten sind dargestellt?
Kreuze neben jedem Bild die richtige Seitenansicht an!

		<input type="checkbox"/> von oben <input type="checkbox"/> von links <input type="checkbox"/> von rechts <input type="checkbox"/> von vorn <input type="checkbox"/> von hinten
		<input type="checkbox"/> von oben <input type="checkbox"/> von links <input type="checkbox"/> von rechts <input type="checkbox"/> von vorn <input type="checkbox"/> von hinten
		<input type="checkbox"/> von oben <input type="checkbox"/> von links <input type="checkbox"/> von rechts <input type="checkbox"/> von vorn <input type="checkbox"/> von hinten
		<input type="checkbox"/> von oben <input type="checkbox"/> von links <input type="checkbox"/> von rechts <input type="checkbox"/> von vorn <input type="checkbox"/> von hinten

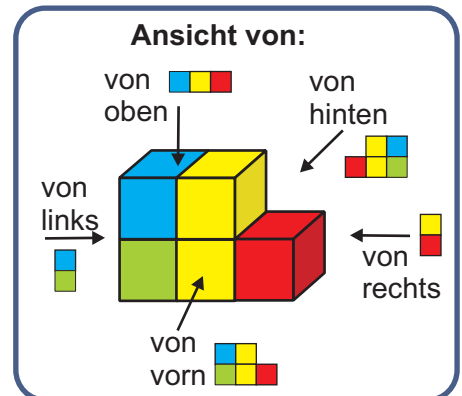
Würfelgebäude



Wie sieht das Würfelgebäude aus verschiedenen Richtungen aus?
 Welche Ansichten sind dargestellt?
 Kreuze neben jedem Bild die richtige Seitenansicht an!

		<input type="checkbox"/> von oben <input type="checkbox"/> von links <input type="checkbox"/> von rechts <input type="checkbox"/> von vorn <input type="checkbox"/> von hinten
		<input type="checkbox"/> von oben <input type="checkbox"/> von links <input type="checkbox"/> von rechts <input type="checkbox"/> von vorn <input type="checkbox"/> von hinten
		<input type="checkbox"/> von oben <input type="checkbox"/> von links <input type="checkbox"/> von rechts <input type="checkbox"/> von vorn <input type="checkbox"/> von hinten
		<input type="checkbox"/> von oben <input type="checkbox"/> von links <input type="checkbox"/> von rechts <input type="checkbox"/> von vorn <input type="checkbox"/> von hinten

Würfelgebäude



Wie sieht das Würfelgebäude aus verschiedenen Richtungen aus?
 Welche Ansichten sind dargestellt?
 Kreuze neben jedem Bild die richtige Seitenansicht an!

		<input type="checkbox"/> von oben <input type="checkbox"/> von links <input type="checkbox"/> von rechts <input type="checkbox"/> von vorn <input type="checkbox"/> von hinten
		<input type="checkbox"/> von oben <input type="checkbox"/> von links <input type="checkbox"/> von rechts <input type="checkbox"/> von vorn <input type="checkbox"/> von hinten
		<input type="checkbox"/> von oben <input type="checkbox"/> von links <input type="checkbox"/> von rechts <input type="checkbox"/> von vorn <input type="checkbox"/> von hinten
		<input type="checkbox"/> von oben <input type="checkbox"/> von links <input type="checkbox"/> von rechts <input type="checkbox"/> von vorn <input type="checkbox"/> von hinten

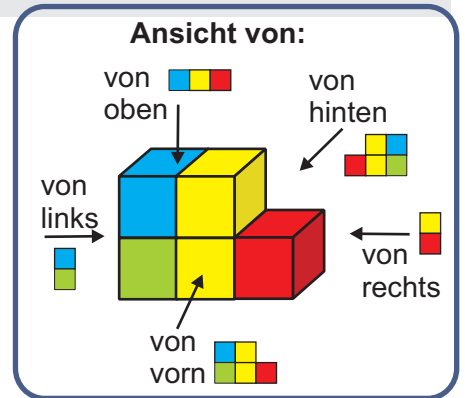


Lösungen



Ansichten zeichnen

Was sehen die Kinder? Male die Kästchen passend an!

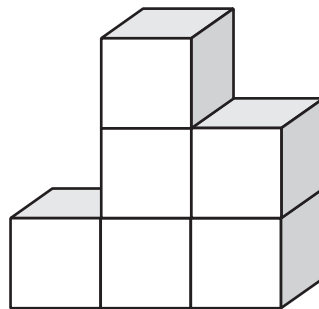


Theo (Ansicht von hinten)



Anna

(Ansicht von links)

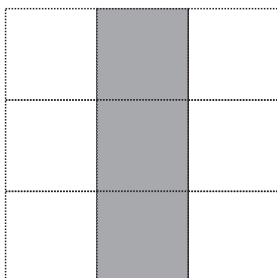


Diana

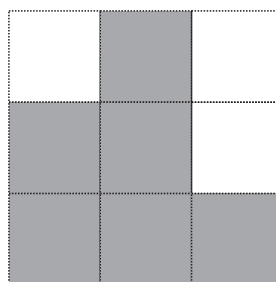
(Ansicht von rechts)



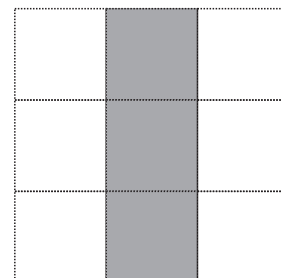
Monika (Ansicht von vorn)



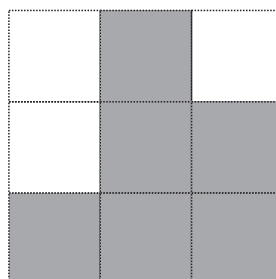
Anna (von links)



Theo (von hinten)



Diana (von rechts)



Monika (von vorne)

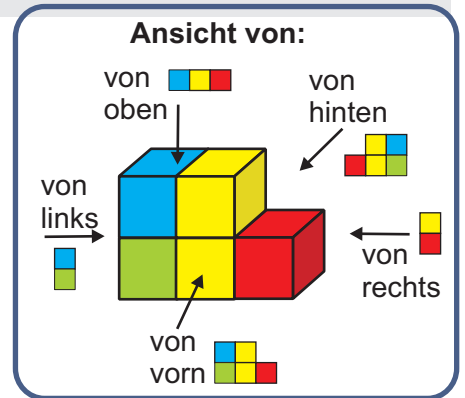


Lösungen



Ansichten zeichnen

Was sehen die Kinder? Male die Kästchen passend an!

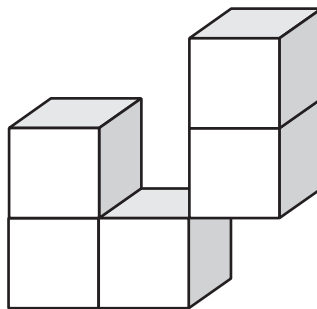


Theo (Ansicht von hinten)



Anna

(Ansicht von links)

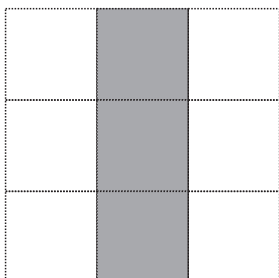


Diana

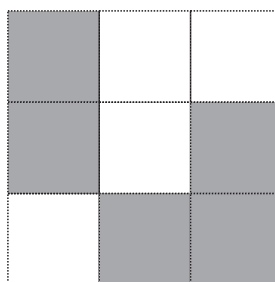
(Ansicht von rechts)



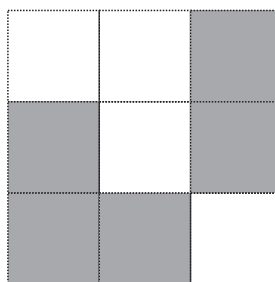
Monika (Ansicht von vorn)



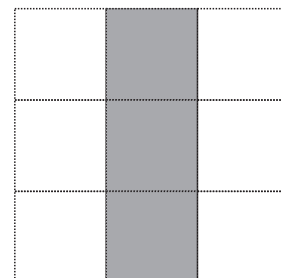
Anna (von links)



Theo (von hinten)



Monika (von vorne)

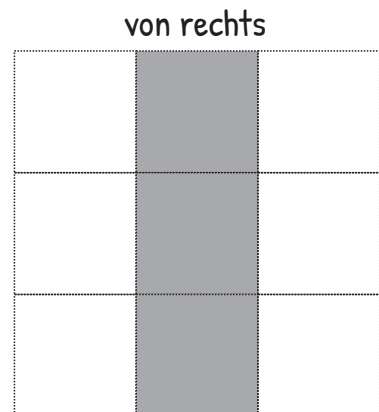
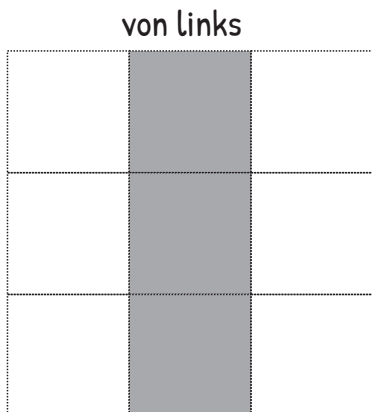
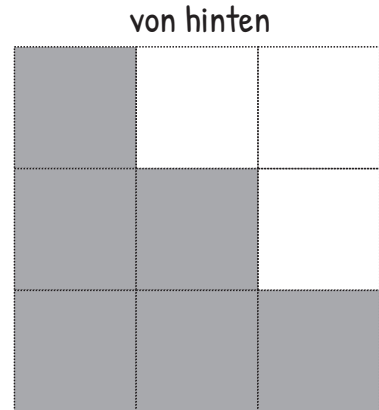
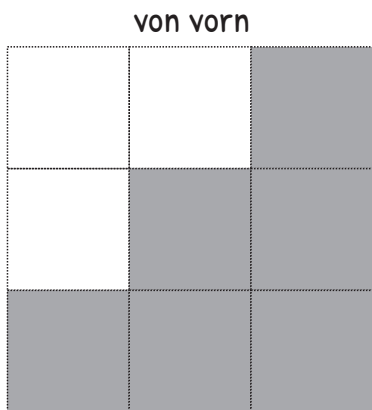
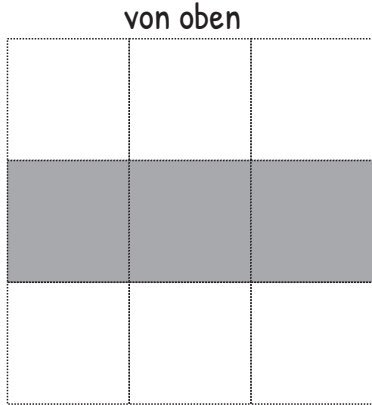
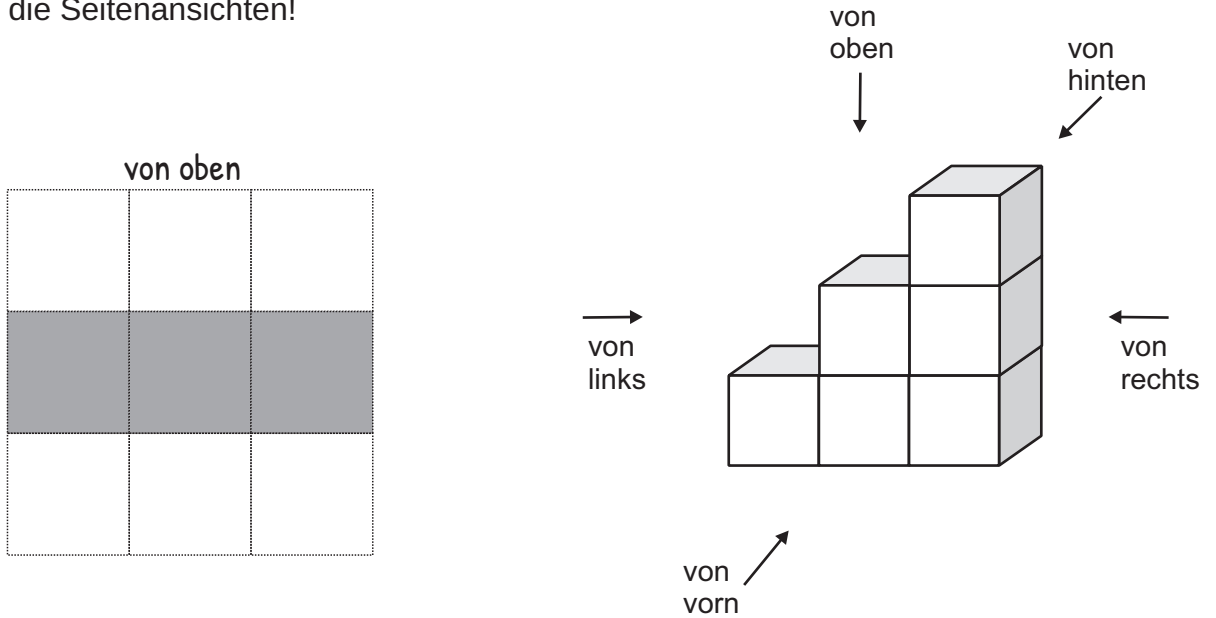


Diana (von rechts)



Ansichten zeichnen

Zeichne die Seitenansichten!





Ansichten zeichnen

Zeichne die Seitenansichten!

von oben

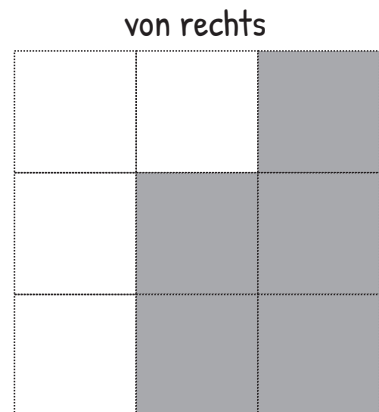
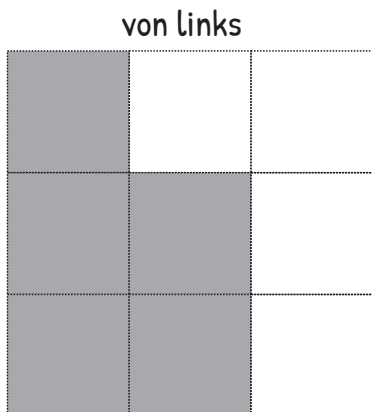
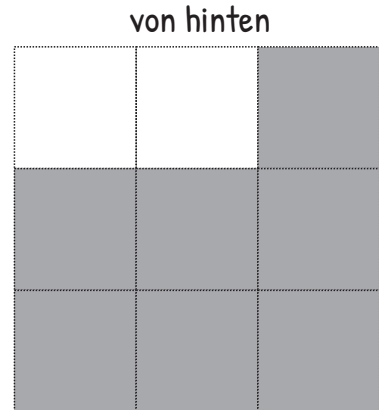

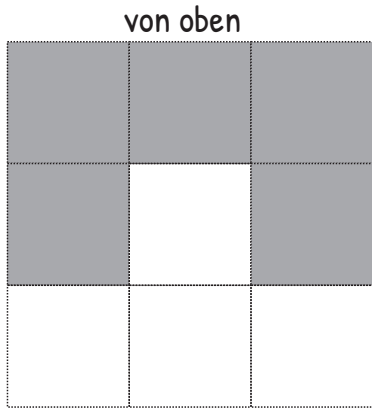
von links

von oben

von hinten

von vorn

von rechts





Ansichten zeichnen



Zeichne die Seitenansichten!

von oben

von oben

von hinten

von links

von rechts

von vorn

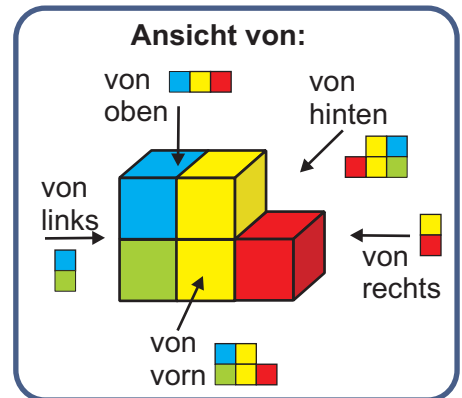
von vorne

von hinten

von links

von rechts

Würfelgebäude

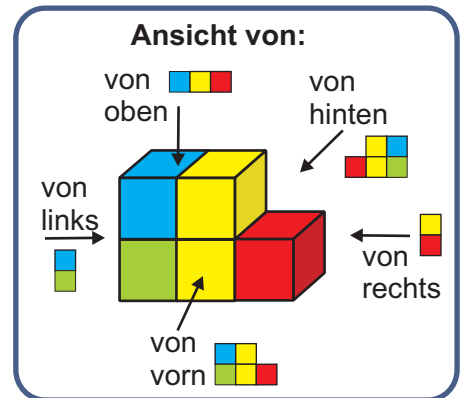


Wie sieht das Würfelgebäude aus verschiedenen Richtungen aus?
 Welche Ansichten sind dargestellt?
 Kreuze neben jedem Bild die richtige Seitenansicht an!

		<input checked="" type="checkbox"/> von oben <input type="checkbox"/> von links <input type="checkbox"/> von rechts <input type="checkbox"/> von vorn <input type="checkbox"/> von hinten
		<input type="checkbox"/> von oben <input type="checkbox"/> von links <input checked="" type="checkbox"/> von rechts <input type="checkbox"/> von vorn <input type="checkbox"/> von hinten
		<input type="checkbox"/> von oben <input checked="" type="checkbox"/> von links <input type="checkbox"/> von rechts <input type="checkbox"/> von vorn <input type="checkbox"/> von hinten
		<input type="checkbox"/> von oben <input type="checkbox"/> von links <input type="checkbox"/> von rechts <input checked="" type="checkbox"/> von vorn <input type="checkbox"/> von hinten



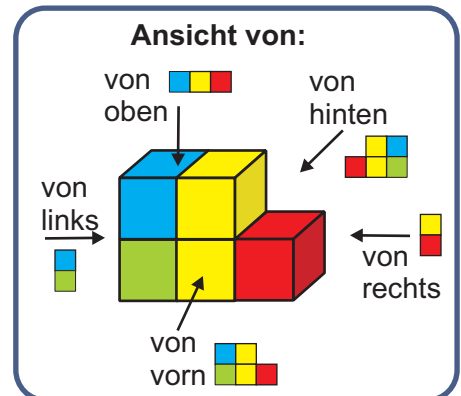
Würfelgebäude



Wie sieht das Würfelgebäude aus verschiedenen Richtungen aus?
 Welche Ansichten sind dargestellt?
 Kreuze neben jedem Bild die richtige Seitenansicht an!

		<ul style="list-style-type: none"> <input type="checkbox"/> von oben <input checked="" type="checkbox"/> von links <input type="checkbox"/> von rechts <input type="checkbox"/> von vorn <input type="checkbox"/> von hinten
		<ul style="list-style-type: none"> <input checked="" type="checkbox"/> von oben <input type="checkbox"/> von links <input type="checkbox"/> von rechts <input type="checkbox"/> von vorn <input type="checkbox"/> von hinten
		<ul style="list-style-type: none"> <input type="checkbox"/> von oben <input type="checkbox"/> von links <input checked="" type="checkbox"/> von rechts <input type="checkbox"/> von vorn <input type="checkbox"/> von hinten
		<ul style="list-style-type: none"> <input type="checkbox"/> von oben <input type="checkbox"/> von links <input type="checkbox"/> von rechts <input checked="" type="checkbox"/> von vorn <input type="checkbox"/> von hinten

Würfelgebäude



Wie sieht das Würfelgebäude aus verschiedenen Richtungen aus?
 Welche Ansichten sind dargestellt?
 Kreuze neben jedem Bild die richtige Seitenansicht an!

		<input checked="" type="checkbox"/> von oben <input type="checkbox"/> von links <input type="checkbox"/> von rechts <input type="checkbox"/> von vorn <input type="checkbox"/> von hinten
		<input type="checkbox"/> von oben <input type="checkbox"/> von links <input type="checkbox"/> von rechts <input checked="" type="checkbox"/> von vorn <input type="checkbox"/> von hinten
		<input type="checkbox"/> von oben <input checked="" type="checkbox"/> von links <input type="checkbox"/> von rechts <input type="checkbox"/> von vorn <input type="checkbox"/> von hinten
		<input type="checkbox"/> von oben <input type="checkbox"/> von links <input checked="" type="checkbox"/> von rechts <input type="checkbox"/> von vorn <input type="checkbox"/> von hinten