


Uhrzeit ablesen - Minuten

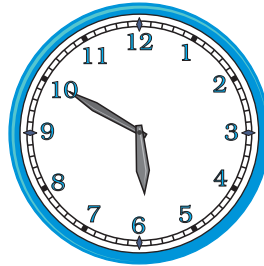


Wie viel Uhr ist es? Lies die beiden möglichen Uhrzeiten von der Uhr ab und schreib diese auf.




9:05 Uhr

21:05 Uhr



Uhr

Uhr




Uhr

Uhr




Uhr

Uhr



Uhr

Uhr




Uhr

Uhr




Uhr

Uhr



Uhr

Uhr



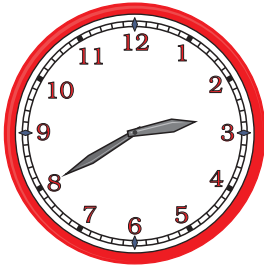
Uhr

Uhr

Uhrzeit ablesen - Minuten

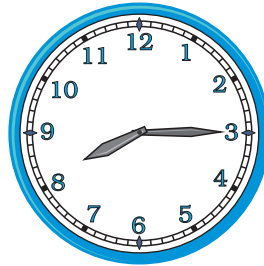


Wie viel Uhr ist es? Lies die beiden möglichen Uhrzeiten von der Uhr ab und schreib diese auf.




Uhr

Uhr




Uhr

Uhr




Uhr

Uhr




Uhr

Uhr



Uhr

Uhr




Uhr

Uhr




Uhr

Uhr



Uhr

Uhr



Uhr

Uhr

Uhrzeit ablesen - Minuten




Wie lange dauert es bis zur nächsten Stunde?

Anfang

Dauer


Ende



10 Minuten




8:00 Uhr



Minuten



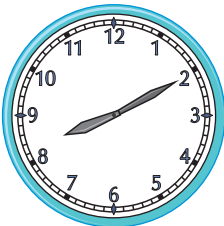
13:00 Uhr



Minuten




5:00 Uhr



Minuten




9:00 Uhr



Minuten



15:00 Uhr



Minuten



11:00 Uhr

Uhrzeit und Zeitspannen




Rechne die Minuten hinzu. Wie spät ist es?

Es ist Uhr morgens.



25 Minuten später

7:35 Uhr




30 Minuten später

Uhr




15 Minuten später

Uhr



45 Minuten später

Uhr



30 Minuten später

Uhr



45 Minuten später

Uhr


Uhrzeit und Zeitspannen




Schreib in das Kästchen, wie viele Minuten vergangen sind.





Minuten




Minuten




Minuten




Minuten



Minuten




Minuten



Uhrzeit ablesen - Minuten

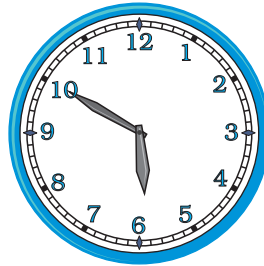


Wie viel Uhr ist es? Lies die beiden möglichen Uhrzeiten von der Uhr ab und schreib diese auf.




9:05 Uhr

21:05 Uhr




5:50 Uhr

17:50 Uhr




11:10 Uhr

23:10 Uhr




4:20 Uhr

16:20 Uhr



9:10 Uhr

21:10 Uhr




1:25 Uhr

13:25 Uhr




6:40 Uhr

18:40 Uhr



4:35 Uhr

16:35 Uhr



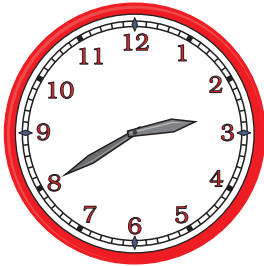
9:55 Uhr

21:55 Uhr

Uhrzeit ablesen - Minuten

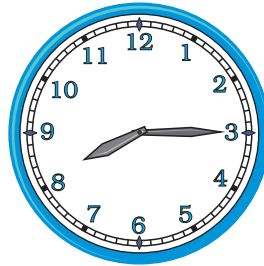


Wie viel Uhr ist es? Lies die beiden möglichen Uhrzeiten von der Uhr ab und schreib diese auf.




2:40 Uhr

14:40 Uhr




8:15 Uhr

20:15 Uhr




12:00 Uhr

24:00 Uhr




7:45 Uhr

19:45 Uhr



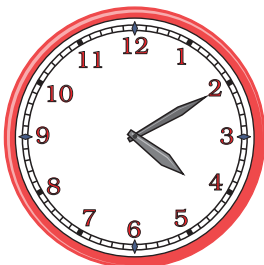
3:05 Uhr

15:05 Uhr




10:50 Uhr

22:50 Uhr




4:10 Uhr

16:10 Uhr



11:20 Uhr

23:20 Uhr



1:40 Uhr

13:40 Uhr

Uhrzeit und Zeitspannen




Wie lange dauert es bis zur nächsten Stunde?

Anfang

Dauer


Ende



10 Minuten




8:00 Uhr



40 Minuten



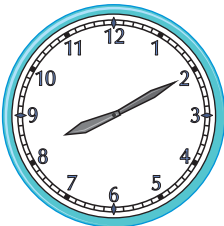
13:00 Uhr



35 Minuten




5:00 Uhr



50 Minuten




9:00 Uhr



25 Minuten



15:00 Uhr



55 Minuten



11:00 Uhr

Uhrzeit und Zeitspannen




Rechne die Minuten hinzu. Wie spät ist es?

Es ist Uhr morgens.




25 Minuten später

7:35 Uhr




30 Minuten später

7:50 Uhr




15 Minuten später

1:55 Uhr



45 Minuten später

7:50 Uhr



30 Minuten später

12:00 Uhr




45 Minuten später

7:00 Uhr


Uhrzeit und Zeitspannen




Schreib in das Kästchen, wie viele Minuten vergangen sind.





20 Minuten




15 Minuten




25 Minuten



15 Minuten



50 Minuten



50 Minuten

