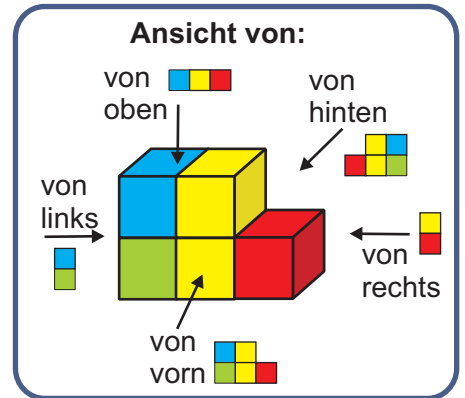


Ansichten zeichnen

Was sehen die Kinder? Male die Kästchen passend an!

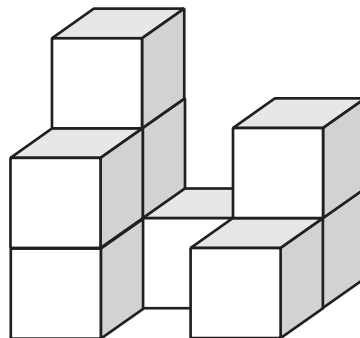


Theo (Ansicht von hinten)



Anna

(Ansicht von links)




Diana

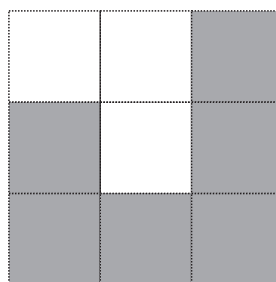
(Ansicht von rechts)




Monika (Ansicht von vorn)




Anna (von links)



Theo (von hinten)



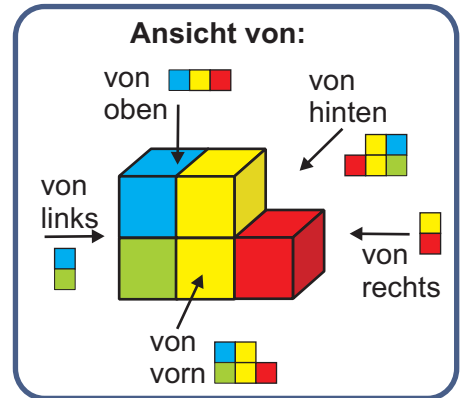
Diana (von rechts)



Monika (von vorne)

Ansichten zeichnen

Was sehen die Kinder? Male die Kästchen passend an!

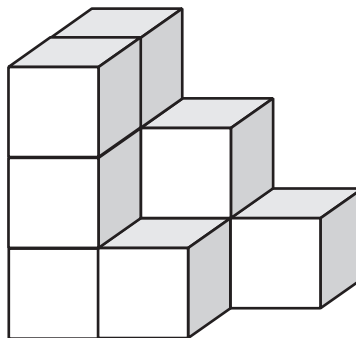


Theo (Ansicht von hinten)



Anna

(Ansicht von links)



Diana

(Ansicht von rechts)



Monika (Ansicht von vorn)

| | | |
|--|--|--|
| | | |
| | | |
| | | |

Anna (von links)

| | | |
|--|--|--|
| | | |
| | | |
| | | |

Theo (von hinten)

| | | |
|--|--|--|
| | | |
| | | |
| | | |




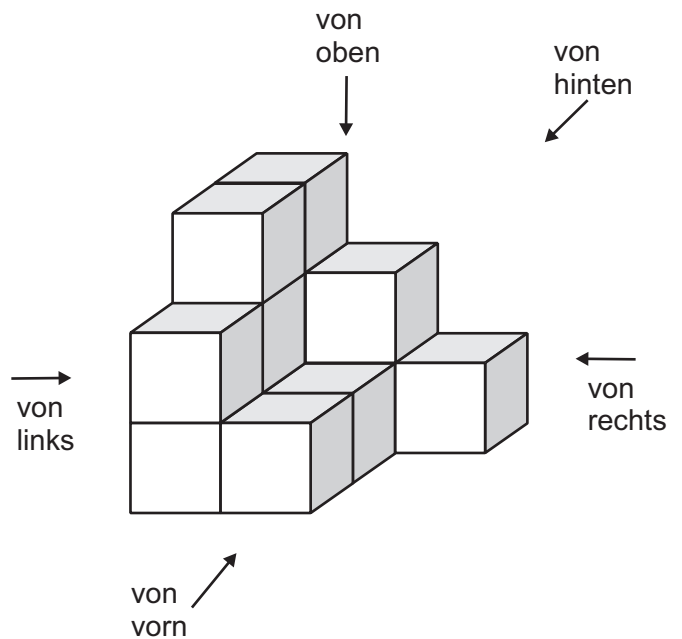
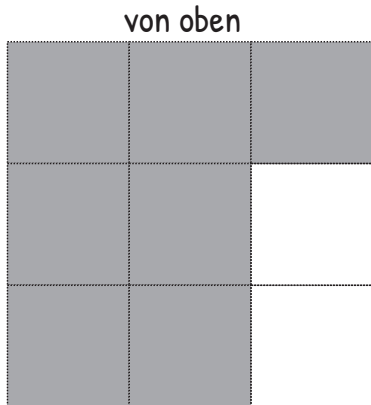
Monika (von vorne)

| | | |
|--|--|--|
| | | |
| | | |
| | | |

Diana (von rechts)


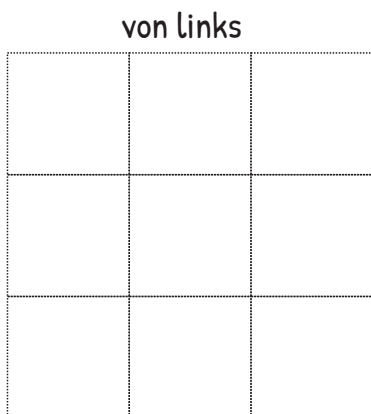

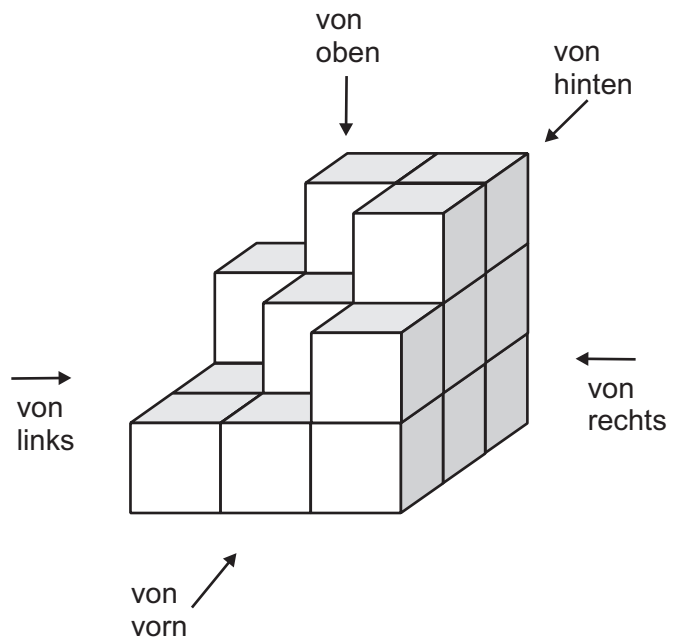
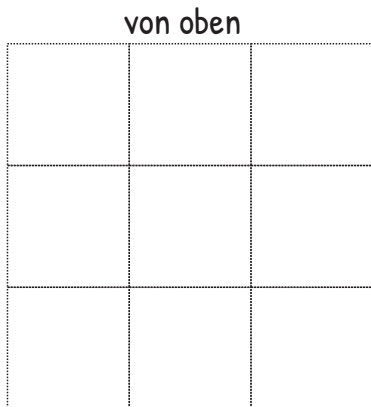
Ansichten zeichnen

Zeichne die Seitenansichten!



Ansichten zeichnen

Zeichne die Seitenansichten!

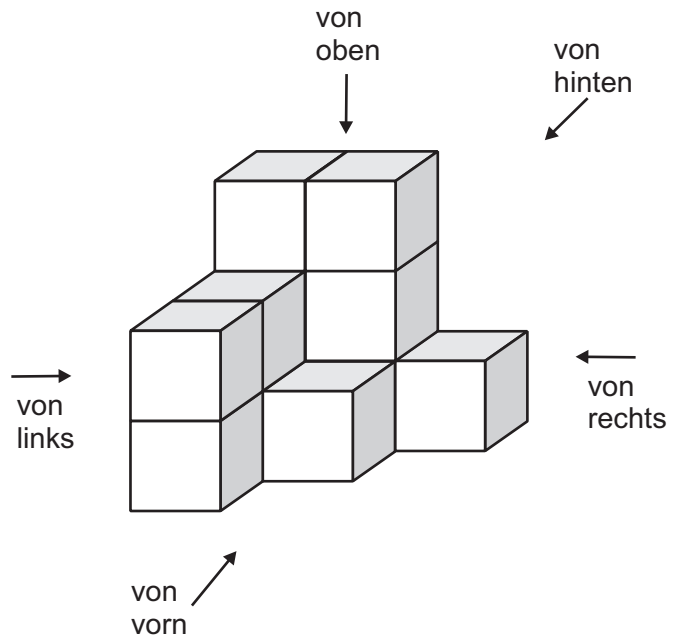


Ansichten zeichnen

Zeichne die Seitenansichten!

von oben

| | | |
|--|--|--|
| | | |
| | | |
| | | |



von vorn

| | | |
|--|--|--|
| | | |
| | | |
| | | |

von hinten

| | | |
|--|--|--|
| | | |
| | | |
| | | |

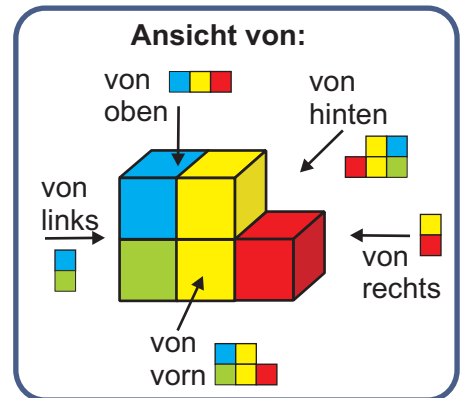
von links

| | | |
|--|--|--|
| | | |
| | | |
| | | |

von rechts

| | | |
|--|--|--|
| | | |
| | | |
| | | |

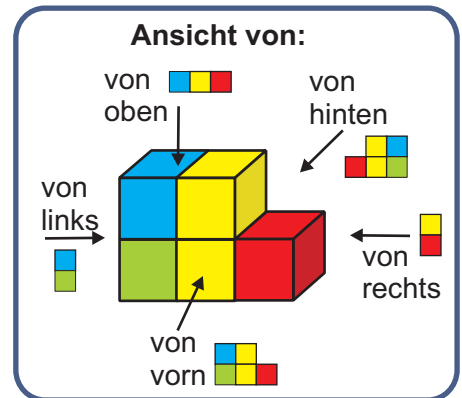
Würfelgebäude



Wie sieht das Würfelgebäude aus verschiedenen Richtungen aus?
 Welche Ansichten sind dargestellt?
 Kreuze die richtige Seitenansicht neben jedem Bild an!

| | | |
|--|--|--|
| | | <input type="checkbox"/> von oben <input type="checkbox"/> von links <input type="checkbox"/> von rechts <input type="checkbox"/> von vorn <input type="checkbox"/> von hinten |
| | | <input type="checkbox"/> von oben <input type="checkbox"/> von links <input type="checkbox"/> von rechts <input type="checkbox"/> von vorn <input type="checkbox"/> von hinten |
| | | <input type="checkbox"/> von oben <input type="checkbox"/> von links <input type="checkbox"/> von rechts <input type="checkbox"/> von vorn <input type="checkbox"/> von hinten |
| | | <input type="checkbox"/> von oben <input type="checkbox"/> von links <input type="checkbox"/> von rechts <input type="checkbox"/> von vorn <input type="checkbox"/> von hinten |

Würfelgebäude

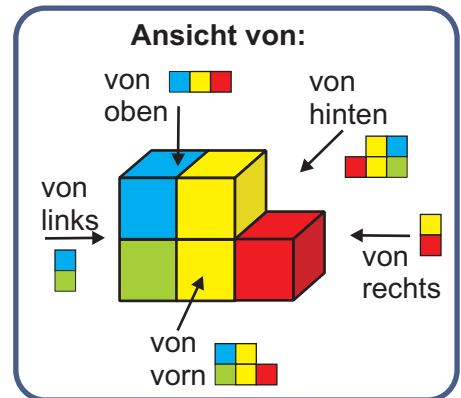


Wie sieht das Würfelgebäude aus verschiedenen Richtungen aus?
 Welche Ansichten sind dargestellt?
 Kreuze die richtige Seitenansicht neben jedem Bild an!

| | | |
|--|--|--|
| | | <input type="checkbox"/> von oben <input type="checkbox"/> von links <input type="checkbox"/> von rechts <input type="checkbox"/> von vorn <input type="checkbox"/> von hinten |
| | | <input type="checkbox"/> von oben <input type="checkbox"/> von links <input type="checkbox"/> von rechts <input type="checkbox"/> von vorn <input type="checkbox"/> von hinten |
| | | <input type="checkbox"/> von oben <input type="checkbox"/> von links <input type="checkbox"/> von rechts <input type="checkbox"/> von vorn <input type="checkbox"/> von hinten |
| | | <input type="checkbox"/> von oben <input type="checkbox"/> von links <input type="checkbox"/> von rechts <input type="checkbox"/> von vorn <input type="checkbox"/> von hinten |



Würfelgebäude



Wie sieht das Würfelgebäude aus verschiedenen Richtungen aus?
 Welche Ansichten sind dargestellt?
 Kreuze die richtige Seitenansicht neben jedem Bild an!

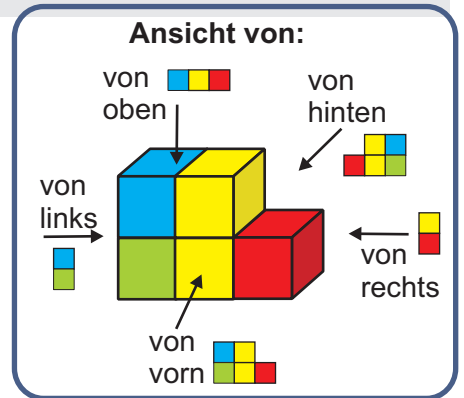
| | | |
|--|--|--|
| | | <input type="checkbox"/> von oben <input type="checkbox"/> von links <input type="checkbox"/> von rechts <input type="checkbox"/> von vorn <input type="checkbox"/> von hinten |
| | | <input type="checkbox"/> von oben <input type="checkbox"/> von links <input type="checkbox"/> von rechts <input type="checkbox"/> von vorn <input type="checkbox"/> von hinten |
| | | <input type="checkbox"/> von oben <input type="checkbox"/> von links <input type="checkbox"/> von rechts <input type="checkbox"/> von vorn <input type="checkbox"/> von hinten |
| | | <input type="checkbox"/> von oben <input type="checkbox"/> von links <input type="checkbox"/> von rechts <input type="checkbox"/> von vorn <input type="checkbox"/> von hinten |



Lösungen

Ansichten zeichnen

Was sehen die Kinder? Male die Kästchen passend an!

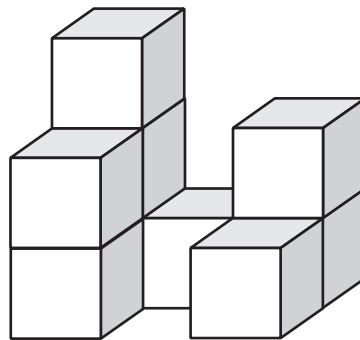


Theo (Ansicht von hinten)



Anna

(Ansicht von links)

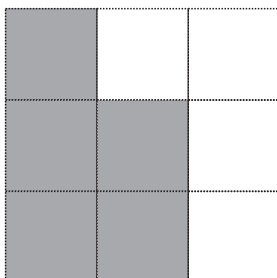


Diana

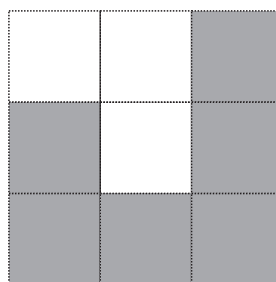
(Ansicht von rechts)



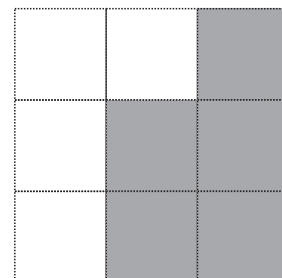
Monika (Ansicht von vorn)



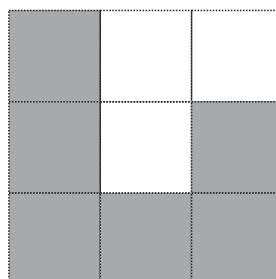
Anna (von links)



Theo (von hinten)



Diana (von rechts)



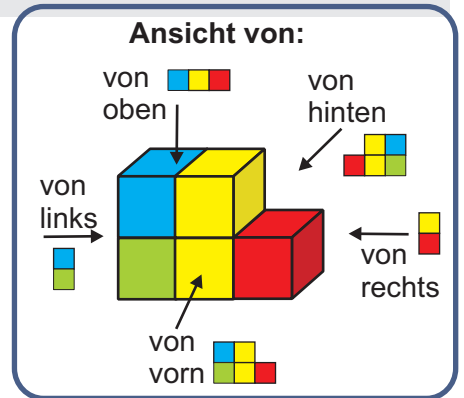
Monika (von vorne)



Lösungen

Ansichten zeichnen

Was sehen die Kinder? Male die Kästchen passend an!

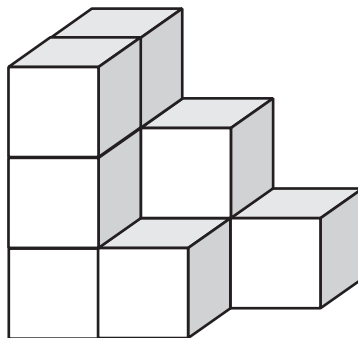


Theo (Ansicht von hinten)



Anna

(Ansicht von links)

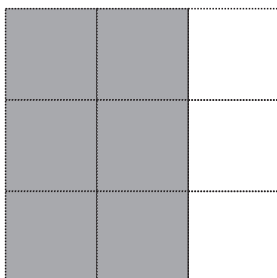


Diana

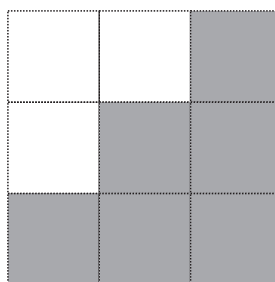
(Ansicht von rechts)



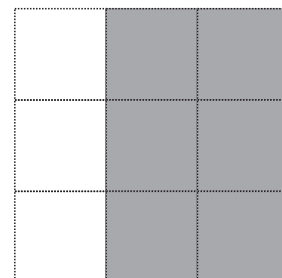
Monika (Ansicht von vorn)



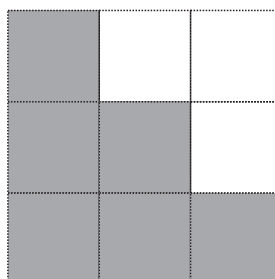
Anna (von links)



Theo (von hinten)



Diana (von rechts)

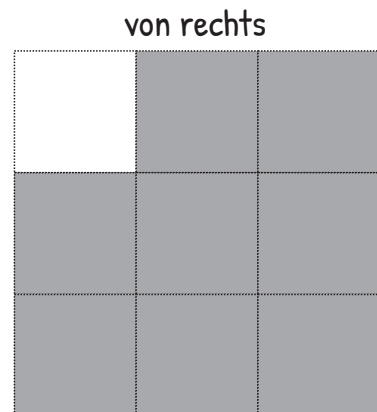
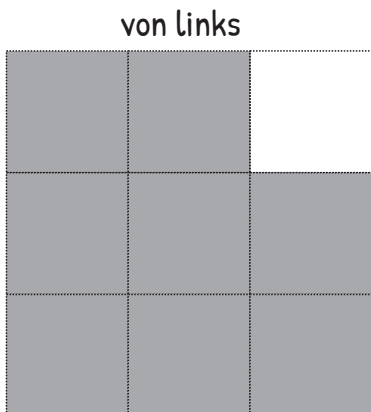
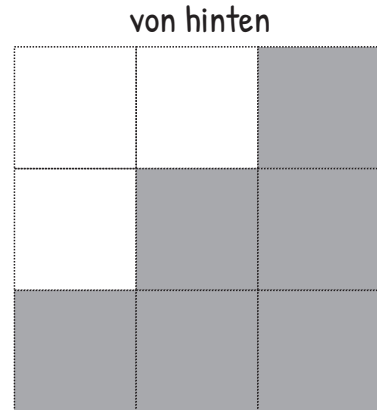
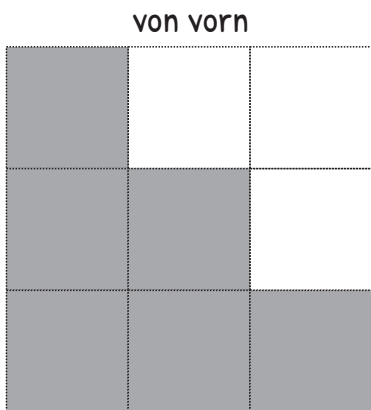
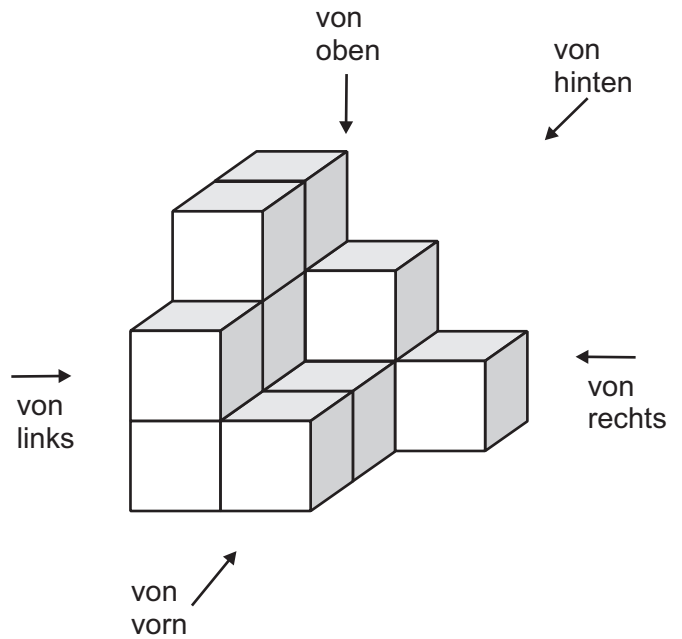
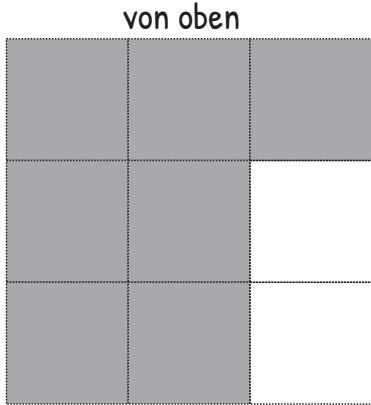


Monika (von vorne)



Ansichten zeichnen

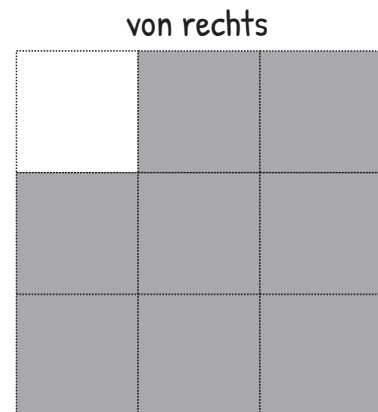
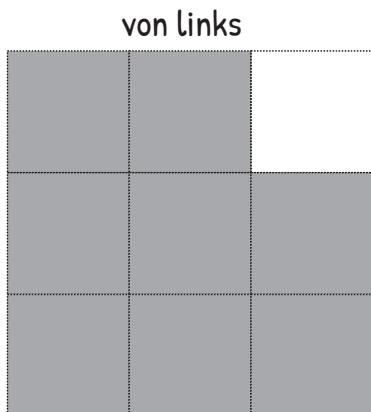
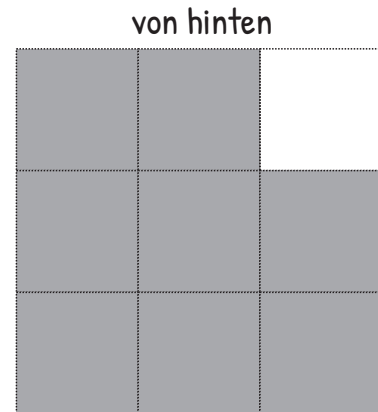
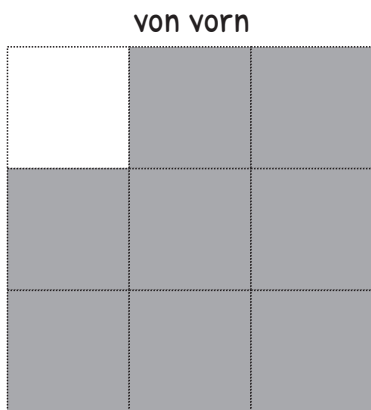
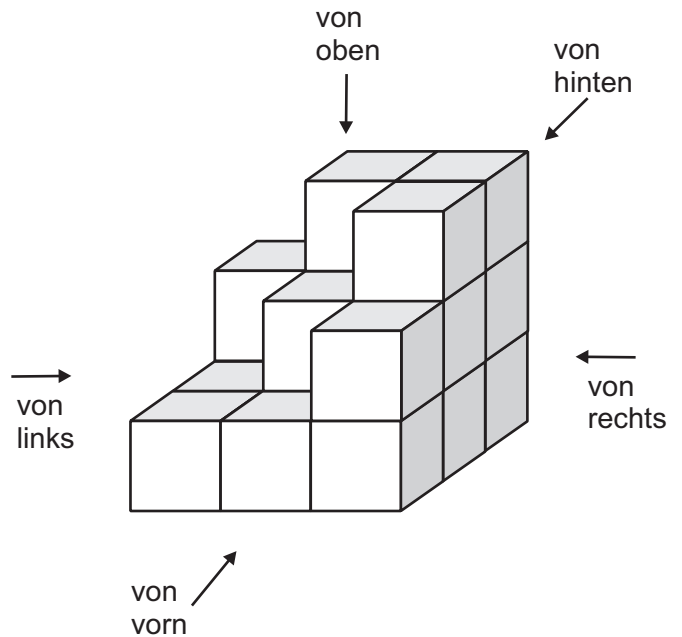
Zeichne die Seitenansichten!





Ansichten zeichnen

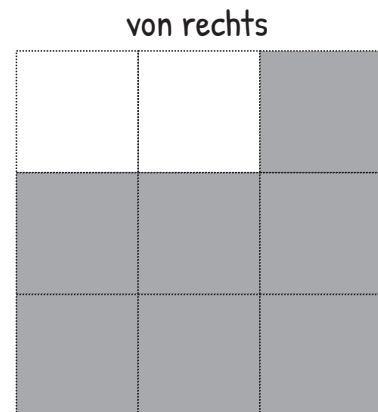
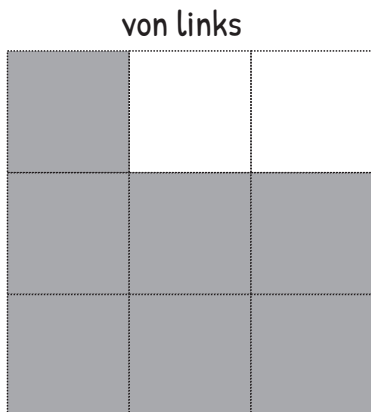
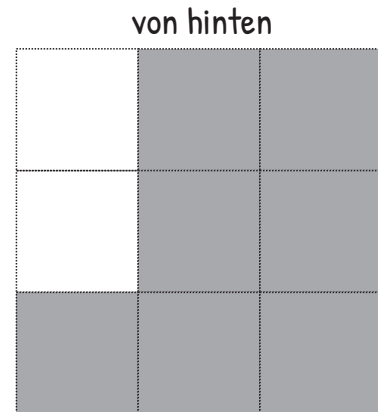
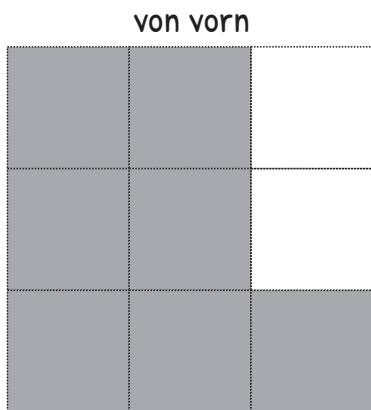
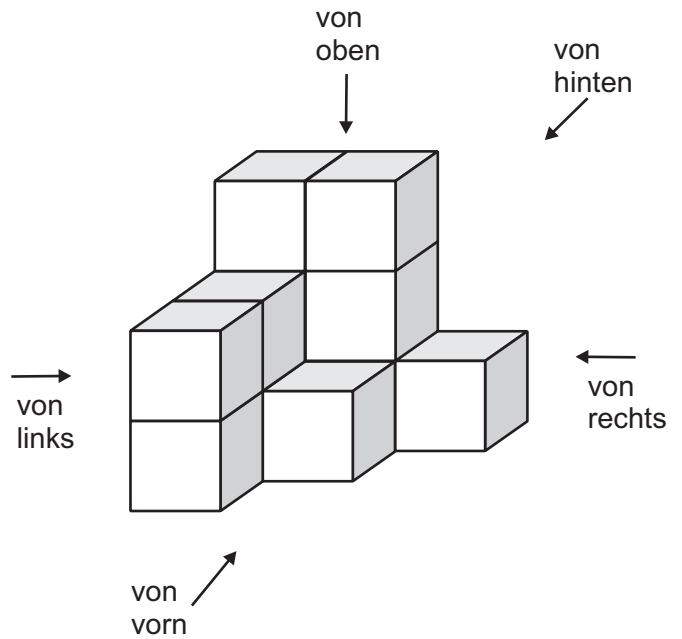
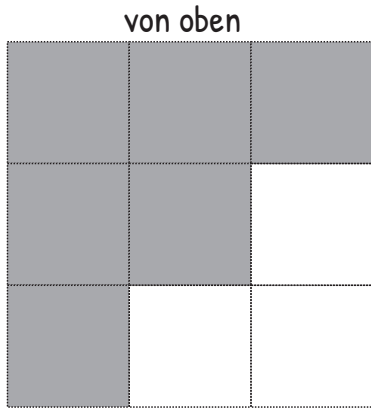
Zeichne die Seitenansichten!



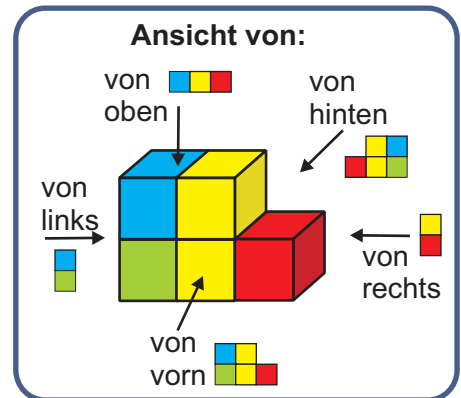


Ansichten zeichnen

Zeichne die Seitenansichten!



Würfelgebäude

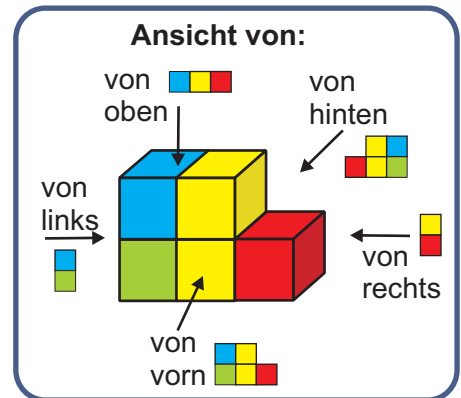


Wie sieht das Würfelgebäude aus verschiedenen Richtungen aus?
 Welche Ansichten sind dargestellt?
 Kreuze die richtige Seitenansicht neben jedem Bild an!

| | | |
|--|--|---|
| | | <input type="checkbox"/> von oben <input type="checkbox"/> von links <input type="checkbox"/> von rechts <input checked="" type="checkbox"/> von vorn <input type="checkbox"/> von hinten |
| | | <input type="checkbox"/> von oben <input checked="" type="checkbox"/> von links <input type="checkbox"/> von rechts <input type="checkbox"/> von vorn <input type="checkbox"/> von hinten |
| | | <input checked="" type="checkbox"/> von oben <input type="checkbox"/> von links <input type="checkbox"/> von rechts <input type="checkbox"/> von vorn <input type="checkbox"/> von hinten |
| | | <input type="checkbox"/> von oben <input type="checkbox"/> von links <input type="checkbox"/> von rechts <input type="checkbox"/> von vorn <input checked="" type="checkbox"/> von hinten |



Würfelgebäude

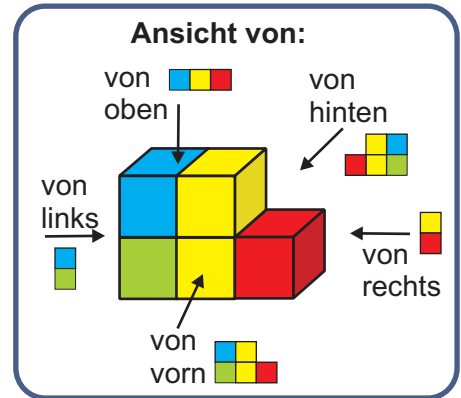


Wie sieht das Würfelgebäude aus verschiedenen Richtungen aus?
 Welche Ansichten sind dargestellt?
 Kreuze die richtige Seitenansicht neben jedem Bild an!

| | | |
|--|--|---|
| | | <ul style="list-style-type: none"> <input type="checkbox"/> von oben <input type="checkbox"/> von links <input checked="" type="checkbox"/> von rechts <input type="checkbox"/> von vorn <input type="checkbox"/> von hinten |
| | | <ul style="list-style-type: none"> <input checked="" type="checkbox"/> von oben <input type="checkbox"/> von links <input type="checkbox"/> von rechts <input type="checkbox"/> von vorn <input type="checkbox"/> von hinten |
| | | <ul style="list-style-type: none"> <input type="checkbox"/> von oben <input checked="" type="checkbox"/> von links <input type="checkbox"/> von rechts <input type="checkbox"/> von vorn <input type="checkbox"/> von hinten |
| | | <ul style="list-style-type: none"> <input type="checkbox"/> von oben <input type="checkbox"/> von links <input type="checkbox"/> von rechts <input type="checkbox"/> von vorn <input checked="" type="checkbox"/> von hinten |



Würfelgebäude



Wie sieht das Würfelgebäude aus verschiedenen Richtungen aus?
 Welche Ansichten sind dargestellt?
 Kreuze die richtige Seitenansicht neben jedem Bild an!

| | | |
|--|--|---|
| | | <ul style="list-style-type: none"> <input type="checkbox"/> von oben <input checked="" type="checkbox"/> von links <input type="checkbox"/> von rechts <input type="checkbox"/> von vorn <input type="checkbox"/> von hinten |
| | | <ul style="list-style-type: none"> <input type="checkbox"/> von oben <input type="checkbox"/> von links <input checked="" type="checkbox"/> von rechts <input type="checkbox"/> von vorn <input type="checkbox"/> von hinten |
| | | <ul style="list-style-type: none"> <input type="checkbox"/> von oben <input type="checkbox"/> von links <input type="checkbox"/> von rechts <input type="checkbox"/> von vorn <input checked="" type="checkbox"/> von hinten |
| | | <ul style="list-style-type: none"> <input checked="" type="checkbox"/> von oben <input type="checkbox"/> von links <input type="checkbox"/> von rechts <input type="checkbox"/> von vorn <input type="checkbox"/> von hinten |