

Zeitspannen berechnen



Wie lange dauert es bis zur nächsten Stunde?

Anfang

Dauer


Ende



Minuten




11:00 Uhr



Minuten




14:00 Uhr



Minuten




18:00 Uhr



Minuten



23:00 Uhr



Minuten



2:00 Uhr



Minuten




10:00 Uhr



Zeitspannen berechnen



Wie viele Minuten dauert es? Schreib in das Kästchen, wie viele Minuten vergangen sind.



	Es dauert		Es dauert		Es dauert insgesamt		
11:30	<u>30 min</u>	→	12:00	<u>10 min</u>	→	12:10	<input type="text" value="min"/>
06:46	→	07:00	→	07:30	<input type="text" value="min"/>		
21:12	→	22:00	→	22:38	<input type="text" value="min"/>		
05:37	→	06:00	→	06:14	<input type="text" value="min"/>		
16:42	→	17:00	→	17:21	<input type="text" value="min"/>		

Wie viele Minuten dauert es? *Rechne zuerst die Minuten bis zur nächsten vollen Stunde aus. Schau dann, wie viele Minuten noch dazugerechnet werden müssen.*

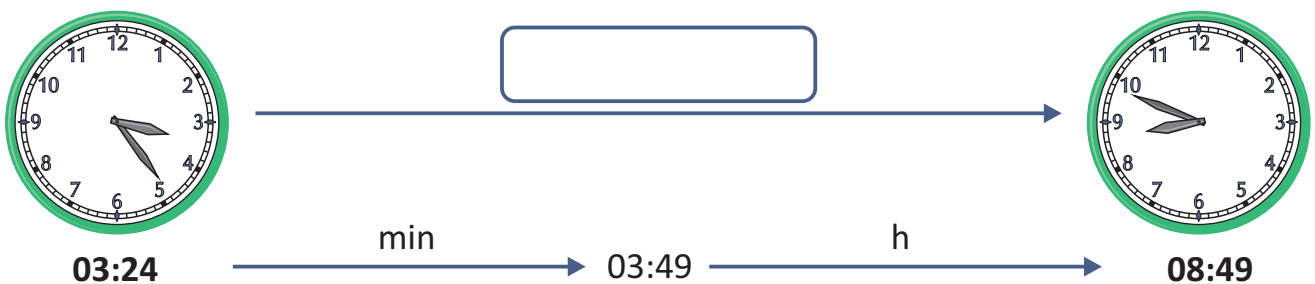
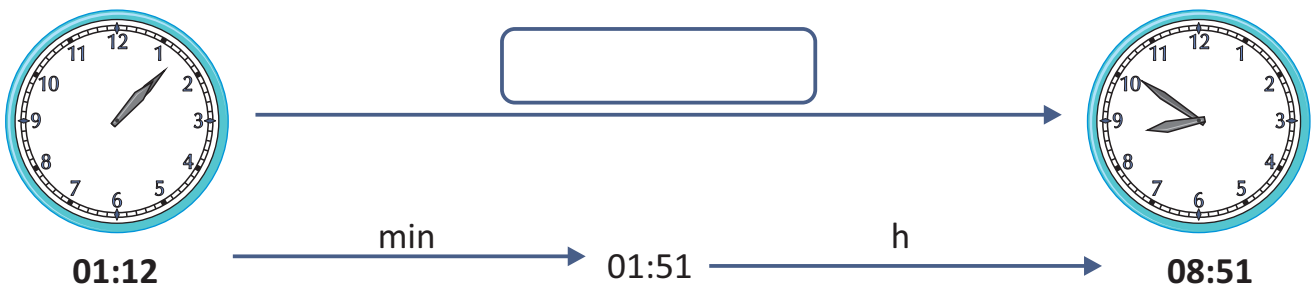
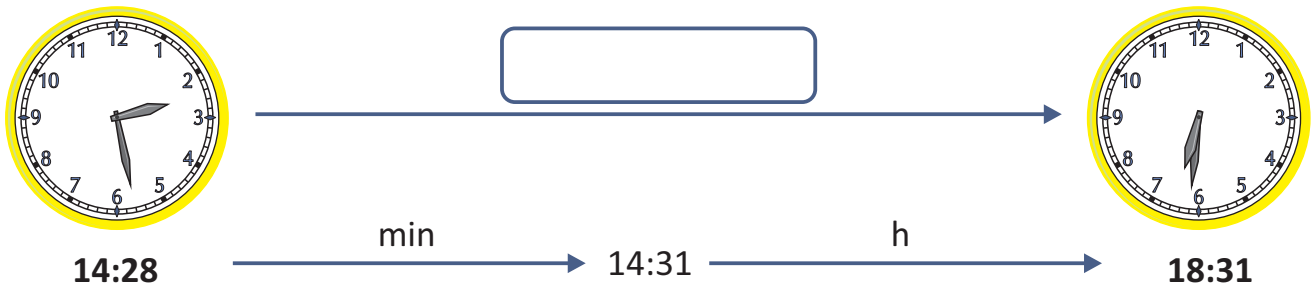
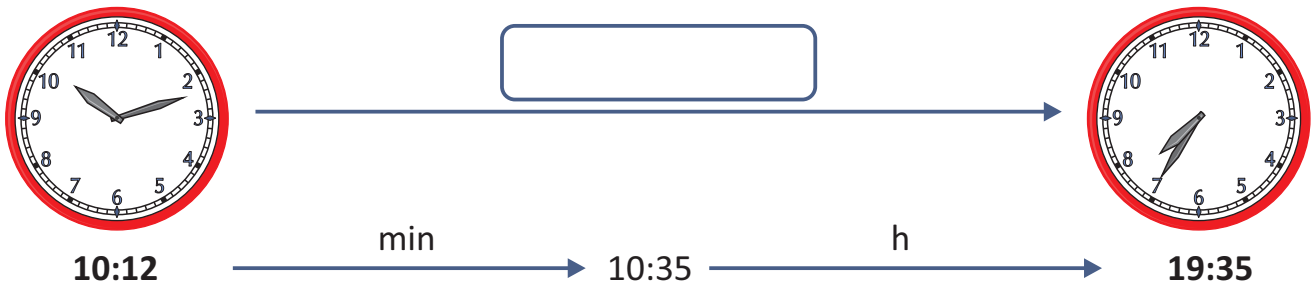
08:32	→	09:10	07:28	→	08:15
18:27	→	19:03	20:51	→	21:44
04:45	→	05:28	12:14	→	13:12
13:56	→	14:34	03:33	→	04:15

Zeitspannen berechnen



Wie viele Stunden und Minuten dauert es?

Wenn die Endminuten größer sind als die Startminuten, rechnest du zuerst bis zu den Minuten der Endzeit. Erst dann rechne die Stunden dazu, die noch bis zum Endzeitpunkt fehlen.

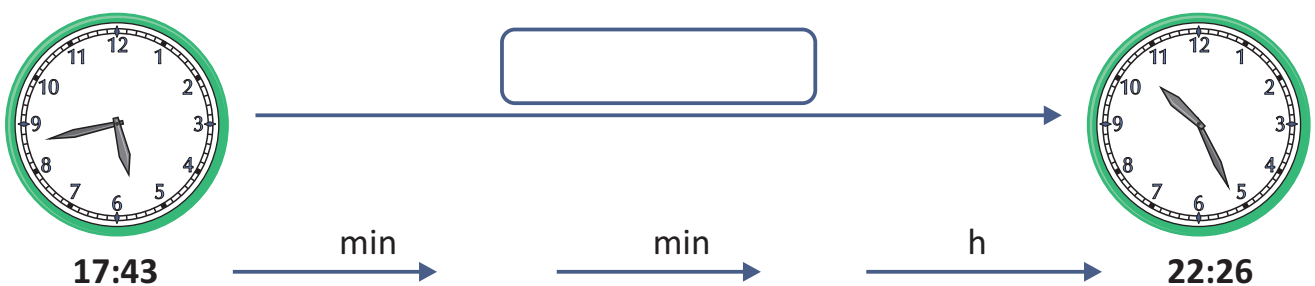
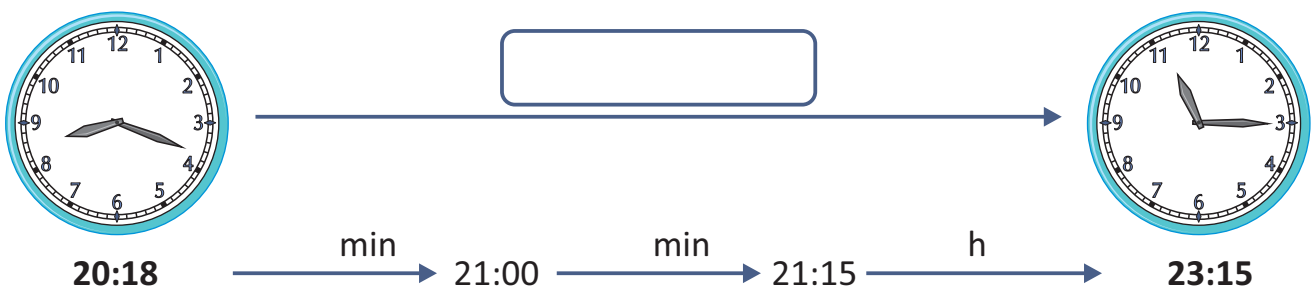
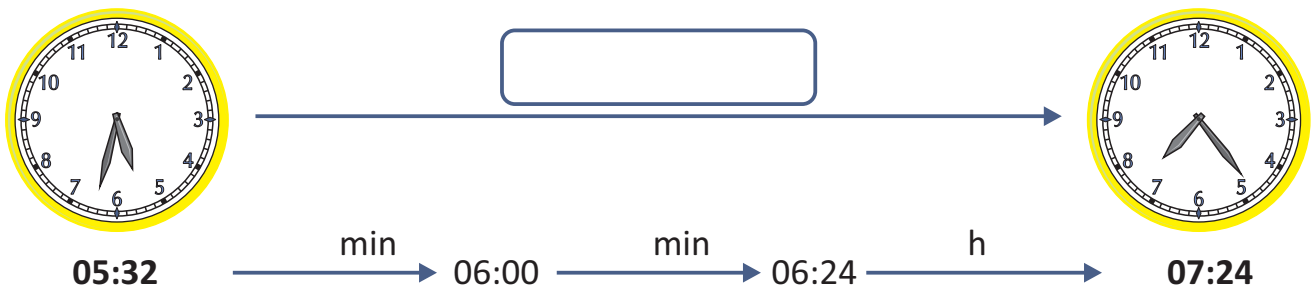
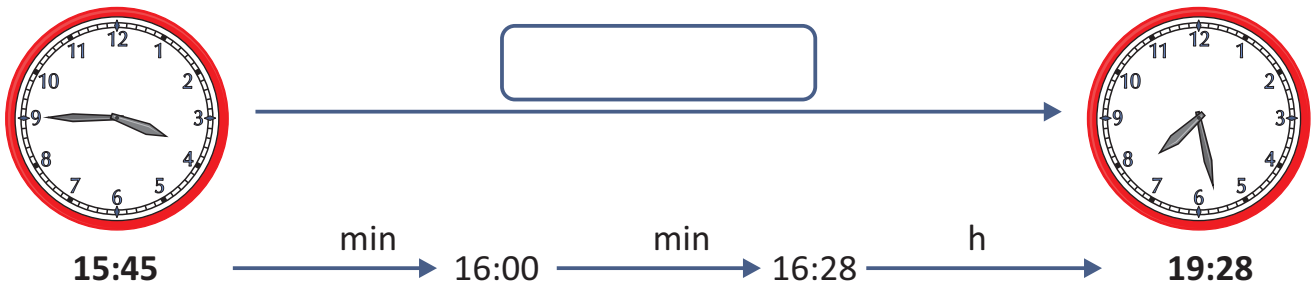


Zeitspannen berechnen



Wie viele Stunden und Minuten dauert es?

Wenn die Startminuten größer sind als die Endminuten, dann rechne zuerst die Minuten bis zur nächsten vollen Stunde aus. Schau dann, wie viele Minuten bis zum Endzeitpunkt noch dazugerechnet werden müssen. Erst dann rechne die Stunden dazu, die bis zum Endzeitpunkt fehlen.





Zeitspannen berechnen



Wie viele Zeit ist vergangen? Trag die Zeitdauer ein!

Anfang	10:30 Uhr	18:18 Uhr	4:09 Uhr	16:42 Uhr	7:25 Uhr
Dauer					
Ende	15:58 Uhr	20:35 Uhr	9:40 Uhr	19:30 Uhr	12:15 Uhr

Trag die Endzeit ein!

Anfang	1:15 Uhr	14:03 Uhr	20:32 Uhr	17:25 Uhr	12:15 Uhr
Dauer	5 h 26 min	1 h 57 min	2 h 48 min	2 h 33 min	4 h 53 min
Ende					

Berechne die Anfangszeit.

Anfang					
Dauer	6 h 24 min	3 h 5 min	2 h 18 min	4 h 35 min	5 h 26 min
Ende	9:44 Uhr	6:00 Uhr	12:50 Uhr	21:10 Uhr	13:38 Uhr

Trag die Endzeit ein.

Lydia geht um 09:12 Uhr zu Hause los und war drei Stunden und 50 Minuten unterwegs.

 Uhr

Der Film beginnt um 17:05 Uhr und dauert 128 Minuten.

 Uhr

Ronald ist um 15:56 Uhr rausgegangen um eine dreiviertel Stunde zu spielen.

 Uhr

Kevin geht um 17.15 Uhr ins Fußballtraining. Das Training dauert 55 Minuten.

 Uhr

Um 19:45 ging der Film los und hat zwei Stunden und 23 Minuten gedauert.

 Uhr

Zeitspannen berechnen



Wie lange dauert es bis zur nächsten Stunde?

Anfang

Dauer


Ende



15 Minuten




11:00 Uhr



45 Minuten



14:00 Uhr



20 Minuten




18:00 Uhr



55 Minuten



23:00 Uhr



35 Minuten



2:00 Uhr



50 Minuten




10:00 Uhr

Zeitspannen berechnen



Wie viele Minuten dauert es? Schreib in das Kästchen, wie viele Minuten vergangen sind.



	Es dauert		Es dauert		Es dauert insgesamt
11:30	→ 30 min →	12:00	→ 10 min →	12:10	40 min
06:46	→ 14 min →	07:00	→ 30 min →	07:30	44 min
21:12	→ 48 min →	22:00	→ 38 min →	22:38	86 min
05:37	→ 23 min →	06:00	→ 14 min →	06:14	37 min
16:42	→ 18 min →	17:00	→ 21 min →	17:21	39 min

Wie viele Minuten dauert es? *Rechne zuerst die Minuten bis zur nächsten vollen Stunde aus. Schau dann, wie viele Minuten noch dazugerechnet werden müssen.*

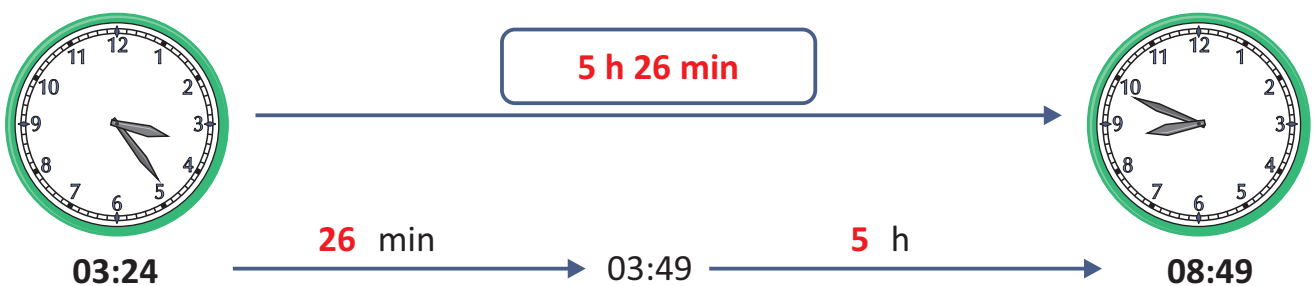
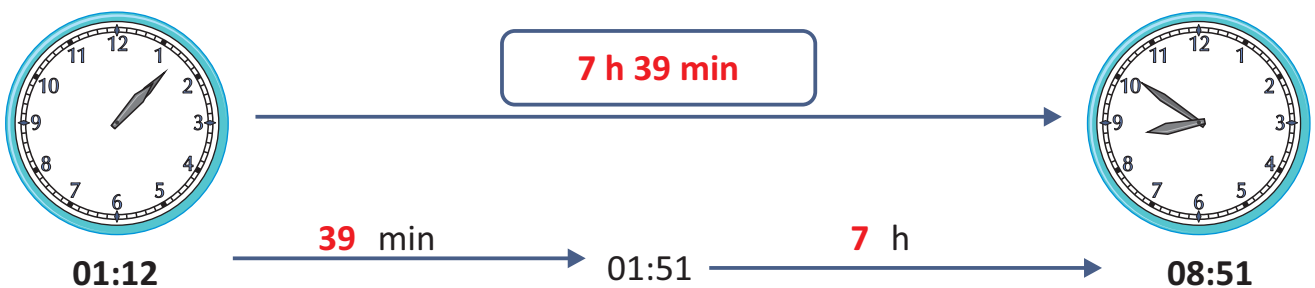
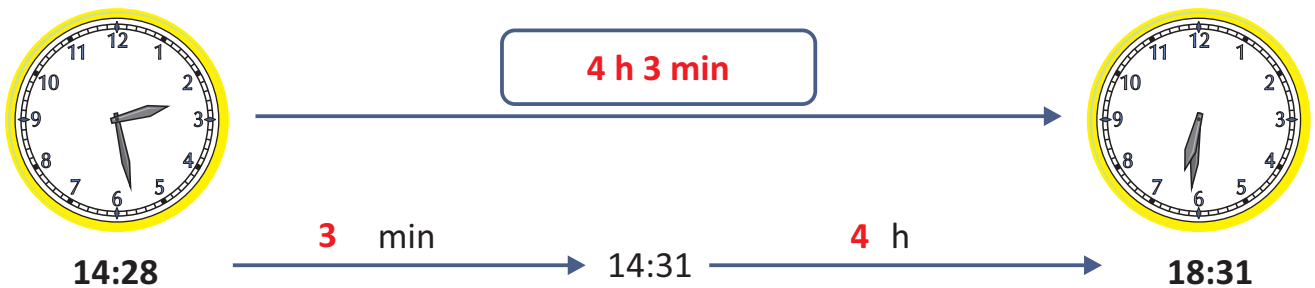
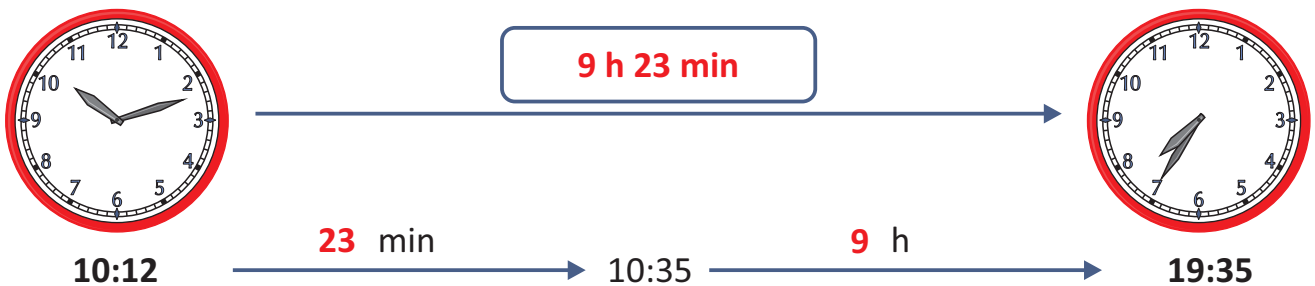
08:32	→ 38 min →	09:10	07:28	→ 47 min →	08:15
18:27	→ 36 min →	19:03	20:51	→ 53 min →	21:44
04:45	→ 43 min →	05:28	12:14	→ 58 min →	13:12
13:56	→ 38 min →	14:34	03:33	→ 42 min →	04:15

Zeitspannen berechnen



Wie viele Stunden und Minuten dauert es?

Wenn die Endminuten größer sind als die Startminuten, rechnest du zuerst bis zu den Minuten der Endzeit. Erst dann rechne die Stunden dazu, die noch bis zum Endzeitpunkt fehlen.

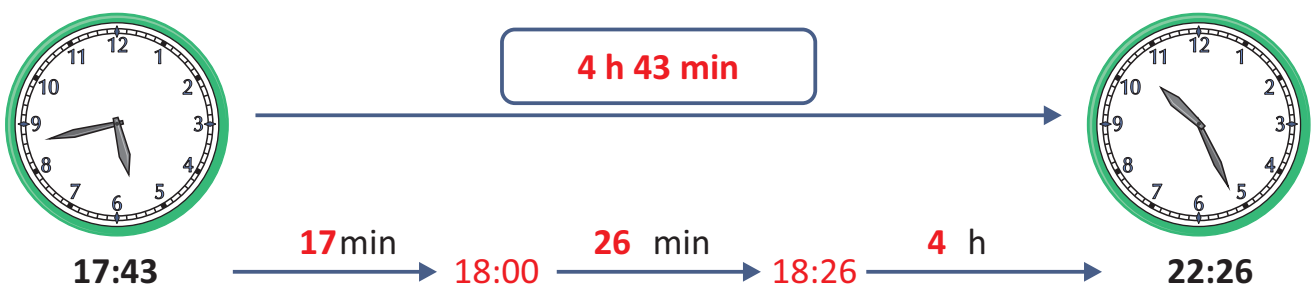
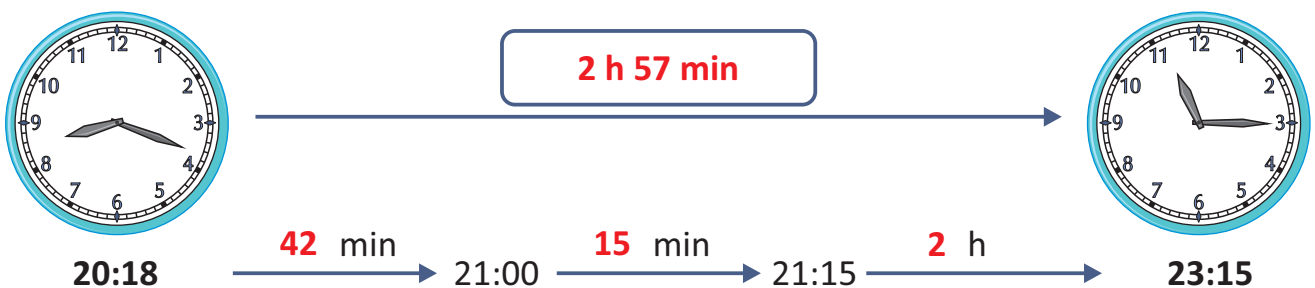
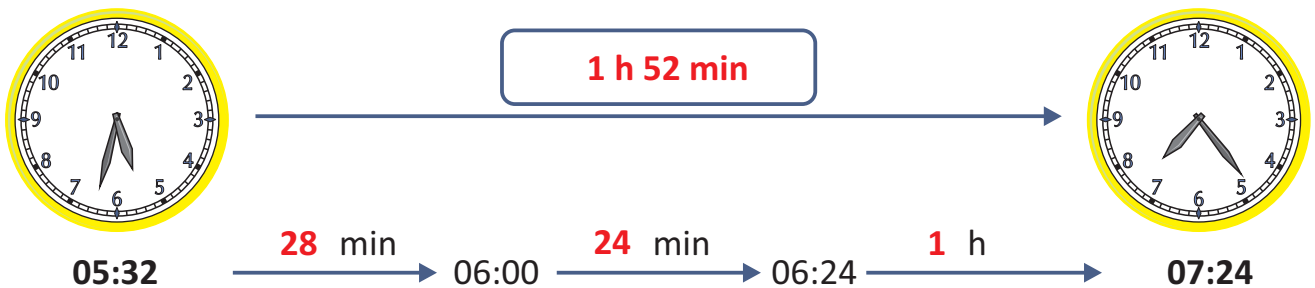
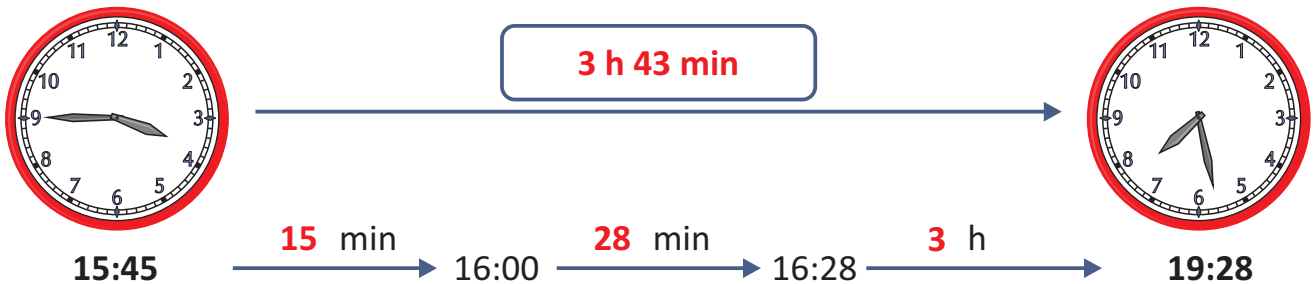


Zeitspannen berechnen



Wie viele Stunden und Minuten dauert es?

Wenn die Startminuten größer sind als die Endminuten, dann rechne zuerst die Minuten bis zur nächsten vollen Stunde aus. Schau dann, wie viele Minuten bis zum Endzeitpunkt noch dazugerechnet werden müssen. Erst dann rechne die Stunden dazu, die bis zum Endzeitpunkt fehlen.



Zeitspannen berechnen



Wie viele Zeit ist vergangen? Trag die Zeitdauer ein!

Anfang	10:30 Uhr	18:18 Uhr	4:09 Uhr	16:42 Uhr	7:25 Uhr
Dauer	5 h 28 min	2 h 17 min	5 h 31 min	2 h 48 min	4 h 50 min
Ende	15:58 Uhr	20:35 Uhr	9:40 Uhr	19:30 Uhr	12:15 Uhr

Trag die Endzeit ein!

Anfang	1:15 Uhr	14:03 Uhr	20:32 Uhr	17:25 Uhr	12:15 Uhr
Dauer	5 h 26 min	1 h 57 min	2 h 48 min	2 h 33 min	4 h 53 min
Ende	6:41 Uhr	16:00 Uhr	23:20 Uhr	19:58 Uhr	17:08 Uhr

Berechne die Anfangszeit.

Anfang	3:20 Uhr	2:55 Uhr	10:32 Uhr	16:35 Uhr	8:12 Uhr
Dauer	6 h 24 min	3 h 5 min	2 h 18 min	4 h 35 min	5 h 26 min
Ende	9:44 Uhr	6:00 Uhr	12:50 Uhr	21:10 Uhr	13:38 Uhr

Trag die Endzeit ein.

Lydia geht um 09:12 Uhr zu Hause los und war drei Stunden und 50 Minuten unterwegs.

13:02 Uhr

Der Film beginnt um 17:05 Uhr und dauert 128 Minuten.

19:13 Uhr

Ronald ist um 15:56 Uhr rausgegangen um eine dreiviertel Stunde zu spielen.

16:41 Uhr

Kevin geht um 17.15 Uhr ins Fußballtraining. Das Training dauert 55 Minuten.

18:10 Uhr

Um 19:45 ging der Film los und hat zwei Stunden und 23 Minuten gedauert.

22:08 Uhr